

Pecyn

Gwaith Cartref

Rhifedd

Blwyddyn 8






Bydd y pecyn gwaith yma'n eich helpu i baratoi ar gyfer y profion rhifedd cenedlaethol:

- Prawf gweithdrefnol heb gyfrifiannell;
- Prawf rhesymu efo cyfrifiannell.

Bob wythnos bydd set o gwestiynau “bara menyn”, a fydd yn ymarfer sgiliau gweithdrefnol; a chwestiwn “rhesymu”, a fydd yn ymarfer sgilliau rhesymu.

Lle i wneud gwaith bras:



Enw:



Dosbarth
Cofrestru:



Ystafell:



Athro Mathemateg:




Adolygu Hanner Tymor 1



Adolygu Hanner Tymor 2





**Bara
Menyn**

Wythnos 1

1) Adiwch 4.62 at 14.7.

2) Tynnwch 4.62 oddi wrth 14.7.

3) Beth yw 75% o £180?

4) Sawl munud sydd rhwng 14:43 a 16:29?

5) $4.3 \text{ m} = \underline{\hspace{2cm}} \text{ cm}$


6) 0.4×9

7) Cyfrifwch $\frac{2}{7}$ o £35.

8) 284×67

9) Beth yw 5 wedi'i giwbio?

allan o 9



Wythnos 2

1) 12×9

2) $4.2 - 2.32$

3) $840 \text{ g} = \underline{\hspace{2cm}} \text{ kg}$

4) Talgrynnwch 8359 i'r cant agosaf.

5) Ysgrifennwch 0.6 fel canran.


6) Cyfrifwch $\sqrt{3^2 + 4^2}$.

7) Cynyddwch 60 gan 20%.

8) $2 \text{ m}^2 = \underline{\hspace{2cm}} \text{ cm}^2$

9) Talgrynnwch 7,628 i un ffigur ystyrlon.

 allan o 9



Bara
Menyn

Wythnos 3

1) $0.25 + 0.26 + 0.27$

2) 9^2

3) Sawl hanner sydd mewn $6\frac{1}{2}$?

4) Talgrynnwch 26.546 i ddau le degol.

5) Tynnwch 0.08 o 0.1.


6) $60 \times \underline{\hspace{2cm}} = 0.6$

7) $8 \times 6 \div (4 \times 4)$

8) $\frac{2}{5} + \frac{3}{7}$

9) 17×13

___ allan o 9



Wythnos 4

1) 17×11

2) $762 - 389$

3) $7 + 2 \times 3$

4) Gostyngwch
£90 gan 10%.

5) Beth yw canolrif
9, 2, 4, 7?


6) Cyfrifwch
gyfaint ciwb efo
ochrau 4 cm.

7) Cilydd $\frac{4}{5}$ yw

8) $4^3 - 4^2$

9) $552 \div 23$

___ allan o 9



Bara
Menyn

Wythnos 5

1) Adiwch 2.76 i
29.

2) Tynnwch 2.76
oddi wrth 29.

3) Beth yw modd
8, 2, 4, 2, 9, 8?

4) $2000 - 847$

5) Ysgrifennwch ail
isradd 64.


6) $\frac{1}{5}$ munud = _____
eiliad.

7) Symleiddiwch y
ffracsiwn $\frac{48}{72}$.

8) $4 \times 0.3 + 6 \times 0.3$

9) Pa ganran o 240
yw 48?

_____ allan o 9



Bara
Menyn

Wythnos 6

1) $82 + 8.2 + 0.82$

2) $82 - 8.2 - 0.82$

3) Beth yw 11 wedi'i sgwario?

4) Talgrynnwch 7,298 i un ffigur ystyrlon.

5) $3.6 \div 3$

6) $\frac{1}{10}$ o rif Awel yw 20. Beth yw $\frac{1}{5}$ o rif Awel?

7) Sawl munud sydd rhwng 09:45 a 14:23?

8) Rhannwch £80 rhwng Ann a Bob yn ôl y gymhareb 3:5.

9) 0.4×0.1


allan o 9




Rhesymu

Ystyriwch y siapiau du a gwyn yn y patrwm ar y dde. Beth sy'n gywir?

(a) Mae perimedr y siâp du yn fwy. (b) Mae perimedr y siâp gwyn yn fwy. (c) Mae perimedr y siapiau'n hafal.



allan o 2



Bara
Menyn

Wythnos 7

1) _____ + 2.4 = 10

2) _____ + 298 =
1000

3) Cyfrifwch $\frac{2}{9}$ o
£108.

4) 8×0.9

5) 2^5


6) 154×23

7) $40.2 - 2.07$

8) $\frac{1}{7} + \frac{3}{4}$

9) $3\frac{1}{2}$ km = _____ cm

_____ allan o 9



 Wythnos 8

1) $2000 - 1234$

2) Adiwch 7.3 at
92.05.

3) $9.6 \div 6$

4) Gostyngwch
145 gan 40%.


5) $\frac{1}{8}$ m = _____ cm

6) Talgrynnwch
142,736 i ddau
ffigur ystyrlon.7) Beth yw cymedr
8, 4, 0, 3, 5?

8) 65×97

9) Beth yw cilydd
8?


 _____ allan o 9



Wythnos 9

1) Cynyddwch 70 gan 10%.	2) Ysgrifennwch 42% fel degolyn.	3) Talgrynnwch 25.2927 i ddau le degol.
4) Mae 100 g o geirios yn costio £1.30. Beth yw cost 2 kg o geirios?	5) 14^2	6) $8 - 2.16$
7) Rhannwch £120 rhwng Arwyn a Bertie yn ôl y gymhareb 19:5.	8) Cyfrifwch 2.5% o £150.	9) $\frac{3}{4} - \frac{2}{3}$

— allan o 9



Wythnos 10

1) Adiwch 81.2 at 9.06.

2) Sawl chwarter sydd mewn $3\frac{3}{4}$?

3) Cyfrifwch 7 wedi'i giwbio.

4) Cynyddwch 2 m gan 15%. Rhowch eich ateb mewn cm.

5) Ysgrifennwch 60% fel ffracsiwn, yn ei ffurf symlaf.

6) Beth yw canolrif 9, 14, 0, 5, 6?

7) 603×75

8) Cilydd $\frac{1}{14}$ yw

9) Talgrynnwch 0.0254 i un ffigur ystyrlon.

allan o 9

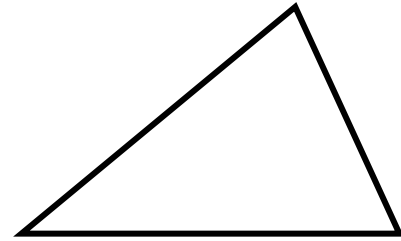
**Rhesymu**

Mae gan y petryal a'r triongl isod yr un arwynebedd. Beth yw uchder y triongl?

3 cm




6 cm



9 cm



allan o 3



Wythnos 11

1) _____ + 8.2 = 20

2) $1000 - \frac{\quad}{827} =$

3) Cyfrifwch 45% o £90.

4) 0.4×0.2

5) Talgrynnwch 9.258 i un lle degol.


6) 83×9

7) Beth yw $\frac{1}{2}$ o $\frac{1}{4}$?


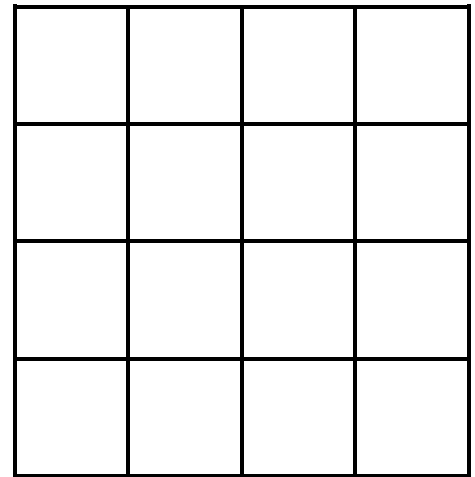
8) Symleiddiwch y gymhareb 15:20.


9) $4\frac{1}{4}$ kg = _____ g

___ allan o 9



Sawl sgwâr (o bob maint)
sydd yn y llun hwn?





 Wythnos 12

1) $87 + 2918 + 382$

2) Tynnwch 0.24 o
2.3) Cyfrifwch $\frac{5}{8}$ o
£72.

4) 7×0.5

5) Talgrynnwch
89,002 i un ffigur
ystyrlon.6) Gostyngwch 60
gan 30%.7) Mae $\frac{1}{4}$ o rif Jim
yn 8. Beth yw $\frac{1}{8}$ o
rif Jim?

8) 723×64

9) Ysgrifennwch
0.1% fel degolyn.

 _____ allan o 9

