

Pecyn

Gwaith Cartref

Rhifedd

Blwyddyn 7





Enw:



Dosbarth  
Cofrestru:



Ystafell:



Athro Mathemateg:




### Adolygu Hanner Tymor 1



### Adolygu Hanner Tymor 2





Bara  
Menyn

Wythnos 1

1)  $£10.54 - £6.99$

2)  $18 \times 0.5$

3) Ysgrifennwch  
20% fel degolyn yn  
ei ffurf symlaf.

4)  $8^2$

5) 10% o £84

6)  $177 \div 3$


7) Beth yw  
arwynebedd  
petryal sy'n mesur  
5 cm wrth 7 cm?

8)  $1.4 \times 9$

9)  $2 + 7 \times 3$

allan o 9





Wythnos 2

1)  $248 - 120 - 36$

2) Ysgrifennwch  $\frac{3}{10}$  fel canran.

3)  $£45.23 - £20.45$

4) Pa rif sydd dau yn llai nag un filiwn?

5) Beth yw 285 cm mewn metrau?

6)  $7 \times \underline{\quad} = 2 \times 28$


7) Amcangyfrifwch gost prynu chwe llyfr yn costio £11.99 yr un.

8) Pa amser sydd 53 munud ar ôl 07:46?

9) Pa rif sydd hanner ffordd rhwng  $-7$  a  $9$ ?

— allan o 9





Bara  
Menyn

Wythnos 3

1) 10% o £60

2)  $874 - 249$

3)  $5.4 \times 8$

4)  $12 - 8 \div 2$

5)  $\sqrt{81} + \sqrt{4}$

6) Beth yw cymedr  
y rhifau 2, 11, 8?


7) Beth sydd  
fwyaf:  $\frac{4}{5}$  neu 70%?

8)  $2.5 - 1.37$

9) Beth yw  
perimedr petryal  
sy'n mesur 8 cm  
wrth 2 cm?

allan o 9





## Wythnos 4

1)  $276 + 787$

2)  $£5 - £1.35$

3) Ysgrifennwch chwarter miliwn mewn ffigurau.

4)  $380 \div \underline{\quad} = 19$

5) Beth yw 3.4 kg mewn gramau?

6) Ysgrifennwch 26% fel degolyn.


7) Cyfrifwch 30% o £75.

8) Ail isradd rhif yw 9. Beth yw'r rhif hwnnw?

9) Pa ddiwrnod sydd 5 diwrnod cyn Hydref 3ydd?

— allan o 9





Bara  
Menyn

Wythnos 5

1)  $823 - 284$

2) Ysgrifennwch holl ffactorau 20.

3) Ysgrifennwch hanner pedwar can mil mewn ffigurau.

4)  $£120 - £21.99$

5)  $0.16 + \underline{\quad} = 1$

6)  $7 \times 2 + 4 \times 2$


7) Talgrynnwch 3.791 i un lle degol.

8) Sawl munud sydd mewn  $3\frac{1}{4}$  awr?

9)  $2 \div 0.2$

     allan o 9





Wythnos 6

1)  $9 \times 8$

2) Cyfrifwch 25% o £60.

3)  $4^3$

4)  $6.4 \times 5$

5)  $872 - 299$

6) Symleiddiwch y ffracsiwn  $\frac{16}{48}$ .


7)  $42 \div \underline{\quad} = 7$

8)  $352 \div 16$

9)  $9.2 + 17.82$

\_\_\_ allan o 9





## Wythnos 7

1) 1% o £75

2) Ysgrifennwch 40% fel ffracsiwn, yn ei ffurf symlaf.

3) £32.78 – £9.59

4)  $0.4 \times 0.3$

5) Beth yw 6.8 cm mewn milimetrau?

6)  $6 \times \underline{\quad} = 8 \times 9$


7)  $5 \times 0$

8)  $221 \div 13$

9) Ysgrifennwch  $2\frac{1}{5}$  fel degolyn.

     allan o 9





Bara  
Menyn

Wythnos 8

1)  $9 \times 6$

2)  $6 \div 0.25$

3) Talgrynnwch  
765 i'r deg agosaf.

4) Tynnwch 84c o  
£2.17.

5)  $\sqrt{64} - \sqrt[3]{64}$

6) Ysgrifennwch  
31% fel degolyn.


7) Ochrau mewn  
heptagon =

8) Ysgrifennwch  
 $0.\dot{3}$  fel ffracsiwn.

9)  $1 + 2 \times 3 - 4$

— allan o 9





Bara  
Menyn

Wythnos 9

1) 10% o \$84

2)  $823 + 2937 + 83$

3)  $9 \times 12.4$

4) Talgrynnwch  
630,824 i'r mil  
agosaf.

5)  $5^2 + 2^3$

6) Beth yw  
amrediad y rhifau  
90, 40, 20, 60?


7) Beth sydd  
fwyaf:  $\frac{2}{3}$  neu 66%?

8)  $9 - 2.14$

9) Ysgrifennwch  
hanner saith gan  
fil mewn ffigurau.

allan o 9





Wythnos 10

1)  $2856 - 1574$

2)  $£10 - £5.67$

3) Cyfrifwch  $\frac{4}{9}$  o  
36.

4)  $100 \div \underline{\quad} = 25$

5) Beth yw 890 g  
mewn cilogramau?

6) Ysgrifennwch  
0.86 fel canran.


7) Cyfrifwch 40% o  
£150.

8) Sgwariodd Rhys  
rif i gael 64. Beth  
oedd rhif  
gwreiddiol Rhys?

9) Pa ddiwrnod  
sydd 6 diwrnod ar  
ôl Mai 26ain?

— allan o 9





## Wythnos 11

1)  $3.6 + 7.5$

2) Ysgrifennwch holl ffactorau 36.

3) Ysgrifennwch ddwbl saith deg chwech mewn ffigurau.

4)  $£120 \div 5$

5)  $1 - \underline{\hspace{1cm}} = 0.19$

6)  $15 - 12 \div 3$


7) Talgrynnwch 928.492 i un lle degol.

8) Sawl eiliad sydd mewn  $5\frac{1}{2}$  munud?

9)  $4 \div 0.1$

\_\_\_ allan o 9





Wythnos 12

1)  $5 \times 15$

2) Cyfrifwch 30% o £90.

3)  $6^3$

4)  $2.14 \times 2$

5)  $263 - 149$

6) Symleiddiwch y ffracsiwn  $\frac{27}{36}$ .

7) Beth yw arwynebedd petryal sy'n mesur 5 cm wrth 2.2 cm?


8)  $209 \div 19$

9)  $239.2 + 5.63$

\_\_\_ allan o 9



# Gwaith Bras:



[@MathsMewnMunud](#)



[/adolygumathemateg](#)



[/mathscreuddyn](#)



[www.mathemateg.com](http://www.mathemateg.com)