



TAG UWCH

1300N40-1



S23-1300N40-1

DYDD MAWRTH, 13 MEHEFIN 2023 – PRYNHAWN

MATHEMATEG – U2 uned 4

MATHEMATEG GYMHWYSOL B

1 awr 45 munud

DEUNYDDIAU YCHWANEGOL

Yn ogystal â'r papur arholiad hwn, bydd angen:

- llyfryn ateb 16 tudalen CBAC (pinc);
- Llyfryn Fformiwlâu;
- cyfrifiannell;
- tablau ystadegol (Cyhoeddiadau RND/CBAC).

CYFARWYDDIADAU I YMGEISWYR

Defnyddiwch inc neu feiro du. Peidiwch â defnyddio beiro gel na hylif cywiro.

Atebwch **bob** cwestiwn.

Ysgrifennwch eich atebion yn y llyfryn ateb sy'n cael ei roi i chi, gan ddilyn y cyfarwyddiadau ar dudalen flaen y llyfryn ateb.

Defnyddiwch ddwy ochr y papur. Ysgrifennwch o fewn rhannau gwyn y llyfryn yn unig.

Ysgrifennwch rif y cwestiwn yn y ddau flwch yn yr ymyl chwith ar ddechrau pob ateb,

e.e.

0	1
---	---

. Ysgrifennwch yr is-adrannau, e.e. **a**, **b** ac **c**, o fewn rhannau gwyn y llyfryn.

Gadewch o leiaf ddwy linell yn wag rhwng pob ateb.

Cymerwch g fel 9.8 ms^{-2} .

Rhaid dangos gwaith cyfrifo digonol er mwyn egluro'r dull **mathemategol** sy'n cael ei ddefnyddio.

Mae'n bosibl na fydd atebion heb waith cyfrifo yn derbyn marciau llawn.

Os nad yw'r lefel o fanwl gywirdeb yn cael ei nodi yn y cwestiwn, dylech chi dalgrynnu atebion yn briodol.

GWYBODAETH I YMGEISWYR

80 yw'r marc uchaf ar gyfer y papur hwn.

Mae nifer y marciau wedi'i nodi mewn cromfachau ar ddiwedd pob cwestiwn neu ran o gwestiwn.

Cofiwch fod angen Cymraeg da a chyflwyniad trefnus yn eich atebion.

Fformiwlâu Ychwanegol ar gyfer 2023

Deddfau Logarithmau

$$\log_a x + \log_a y \equiv \log_a (xy)$$

$$\log_a x - \log_a y \equiv \log_a \left(\frac{x}{y} \right)$$

$$k \log_a x \equiv \log_a (x^k)$$

Dilyniannau

Term cyffredinol dilyniant rhifyddol:

$$u_n = a + (n-1)d$$

Term cyffredinol dilyniant geometrig:

$$u_n = ar^{n-1}$$

Mesureg

Ar gyfer cylch â radiws, r , lle mae ongl yn y canol o θ radian yn cynnal arc o hyd s ac yn amgáu sector cysylltiedig o arwynebedd A :

$$s = r\theta \qquad A = \frac{1}{2}r^2\theta$$

Calcwlws a Hafaliadau Differol

Differu

Ffwythiant

$$f(x)g(x)$$

$$f(g(x))$$

Deilliad

$$f'(x)g(x) + f(x)g'(x)$$

$$f'(g(x))g'(x)$$

Integru

Ffwythiant

$$f'(g(x))g'(x)$$

Integrin

$$f(g(x)) + c$$

Arwynebedd o dan gromlin = $\int_a^b y \, dx$

Nodyn atgoffa: Rhaid dangos gwaith cyfrifo digonol er mwyn egluro'r dull **mathemategol** sy'n cael ei ddefnyddio.

Adran A: Ystadegaeth

0	1
---	---

Mae dau ddis teg sydd ddim yn giwbigol yn rhoi sgorau o 1 i 4 ac 1 i 8 yn y drefn honno (*respectively*). Mae rhywun yn hapddewis dis ac yna'n ei rollo unwaith.

- a) Darganfyddwch y tebygolrwydd bod y sgôr yn llai na 4. [3]
- b) Lluniadwch ddiagram Venn gyda'r digwyddiadau "Sgôr yn llai nag 8" a "Sgôr yn llai na 4". Dylech chi gynnwys y tebygolrwydd ar gyfer pob rhanbarth gwahanol (*distinct region*) yn eich diagram. [3]

0	2
---	---

Mae ffwng (*fungus*) penodol yn digwydd mewn poblogaeth o goed, mewn dau fath cydanghynhwysol (*mutually exclusive*), X ac Y .

Rydych chi'n gwybod bod gan 4% o'r coed y math X o'r ffwng ac mae gan gyfran anhysbys (*unknown proportion*), p , o'r coed y math Y o'r ffwng.

Mae meddyg coed (*tree surgeon*) wedi datblygu prawf i helpu i wneud diagnosis, i weld a oes gan goeden y ffwng neu beidio. Mae gwybodaeth sydd wedi'i chasglu yn ystod y broses ymchwil i'w gweld yn y tabl isod.

	O wybod bod gan y goeden		
	Math X	Math Y	Dim ffwng
Tebygolrwydd canlyniad prawf positif	0.95	d	0.02
Tebygolrwydd canlyniad prawf negatiff	0.05	$1 - d$	0.98

Mae'r meddyg coed yn cyfrifo bod y canlynol yn wir am goeden sy'n cael ei hapddewis o'r boblogaeth:

- y tebygolrwydd bod y goeden yn cael canlyniad prawf positif ar gyfer y ffwng yw 0.122,
- y tebygolrwydd nad oes gan y goeden y ffwng, o wybod ei bod yn cael canlyniad prawf positif, yw $\frac{87}{610}$.

Dangoswch mai gwerth p yw 0.09 a darganfyddwch werth d .

[7]

TROWCH Y DUDALEN

0	3
---	---

Mae'r hapnewidyn di-dor X wedi'i ddosrannu'n unffurf dros y cyfwng (*interval*) $[1, d]$.

- a) 90fed canradd (*percentile*) X yw 19. Darganfyddwch werth d . [3]
- b) Cyfrifwch gymedr a gwyriad safonol X . [2]

0	4
---	---

Mae siop fara'n cynhyrchu torthau mawr sydd â masau, mewn gramau, sydd wedi'u dosrannu'n normal gyda'r cymedr μ a'r amrywiant σ^2 .

Mae rhywun wedi darganfod bod 11% o'r torthau mawr yn pwysu mwy nag 805g a bod 20% o'r torthau mawr yn pwysu llai na 795g.

- a) Darganfyddwch werthoedd μ ac σ . [8]

Mae'r siop fara hefyd yn cynhyrchu torthau bach sydd â masau, mewn gramau, sydd wedi'u dosrannu'n normal gyda'r cymedr 400 a'r gwyriad safonol 9.

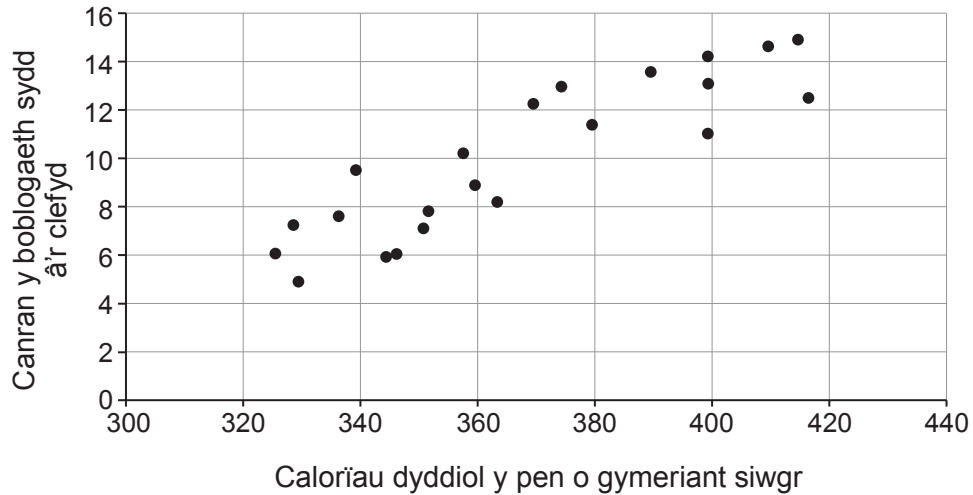
Ar ôl newid rheolwyr yn y siop fara, mae cwsmer yn amau (*suspects*) bod màs cymedrig y torthau bach wedi lleihau. Mae'r cwsmer yn pwysu'r 15 torth fach nesaf mae'n eu prynu ac yn cyfrifo mai eu màs cymedrig yw 397g.

- b) Perfformiwch brawf rhagdybiaeth (*hypothesis test*) ar y lefel 5% o arwyddocâd i ymchwilio i amheuaeth (*suspicion*) y cwsmer, gan dybio bod y gwyriad safonol, mewn gramau, yn dal i fod yn 9. [6]
- c) Nodwch dybiaeth (*assumption*) arall rydych chi wedi'i gwneud yn rhan (b). [1]

0 5

Mae ymchwilydd meddygol yn ymchwilio i gysylltiadau posibl rhwng deiet a chlefyd penodol. Mae hi'n dewis hapsampl o 22 o wledydd ac yn cofnodi'r cymeriant calorïau dyddiol cyfartalog y pen (*average daily calorie intake per capita*) o siwgr a chanran y boblogaeth sy'n dioddef o'r clefyd hwn.

Cymeriant siwgr a chyfradd (rate) y clefyd

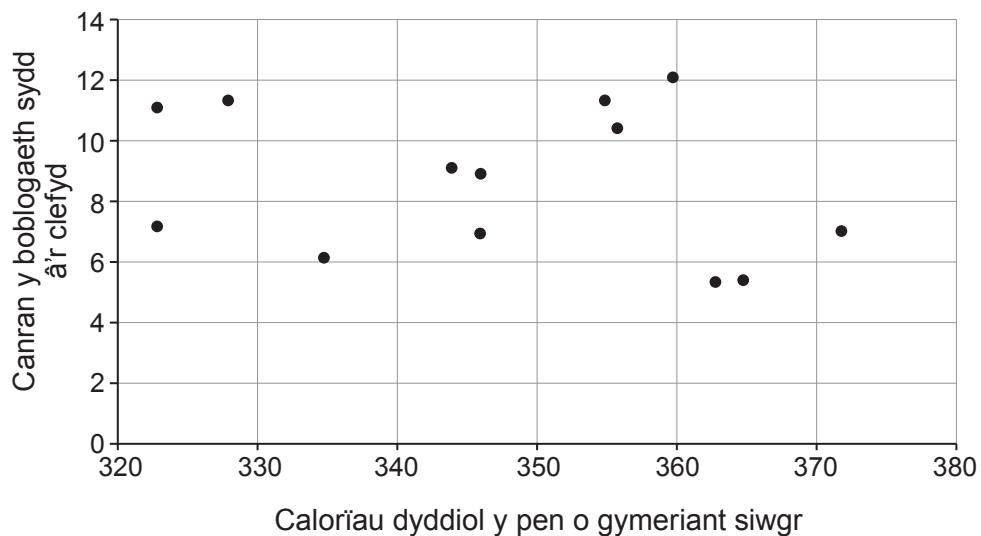


Mae 22 o bwyntiau data a'r cyfernod cydberthyniad moment lluoswm (*product moment correlation coefficient*) yw 0.893.

- a) Gan nodi eich rhagdybiaethau (*hypotheses*) yn glir, dangoswch y gallai'r data hyn gael eu defnyddio i awgrymu bod cysylltiad rhwng y clefyd a chymeriant siwgr. [5]

Mae'r ymchwilydd meddygol yn sylweddoli bod ei data o'r flwyddyn 2000. Mae hi'n gwneud ei hymchwiliad eto gyda hapsampl o 13 o wledydd gan ddefnyddio data newydd o'r flwyddyn 2020. Mae hi'n cynhyrchu'r graff canlynol.

Cymeriant siwgr a chyfradd y clefyd



- b) Sut dylai'r ymchwilydd ddehongli'r data newydd yng ngoleuni'r data o 2000? [2]

TROWCH Y DUDALEN

Adran B: Hafaliadau Differol a Mecaneg

0	6
---	---

Mae gronyn P yn symud ar blân llorweddol, lle mae \mathbf{i} yn fector uned i gyfeiriad y dwyrain a \mathbf{j} yn fector uned i gyfeiriad y gogledd. Ar amser t eiliad, mae fector safle P wedi'i roi gan \mathbf{r} metr, lle mae

$$\mathbf{r} = (t^3 - 7t^2)\mathbf{i} + (2t^2 - 15t + 11)\mathbf{j}.$$

- a) i) Darganfyddwch fynegiad ar gyfer fector cyflymder P ar amser t s.
- ii) Darganfyddwch werth t pan mae P yn symud i'r gogledd-ddwyrain, a thrwy hyn ysgrifennwch gyflymder P ar gyfer y gwerth hwn o t . [6]
- b) Darganfyddwch fector cyflymiad (*acceleration*) P pan mae $t = 7$. [3]

0	7
---	---


Mae rhoden AB , sydd â'r màs 20 kg a'r hyd 3.2 m, yn ddisymud yn llorweddol mewn ecwilibriwm ar ddau gynhalydd (*supports*) llyfn yn y pwyntiau X ac Y , lle mae $AX = 0.4$ m ac $AY = 2.4$ m. Mae gronyn sydd â'r màs 8 kg wedi'i gysylltu wrth y rhoden yn y pwynt C , lle mae $BC = 0.2$ m. Mae adwaith y cynhalydd yn Y bedair gwaith cymaint ag adwaith y cynhalydd yn X .

Dydych chi **ddim** yn gallu tybio bod y rhoden AB yn unffurf (*uniform*).

- a) i) Darganfyddwch beth yw maint pob un (*each*) o'r grymoedd adwaith sy'n cael eu gweithredu ar y rhoden yn X ac Y .
- ii) Dangoswch fod pwysau'r rhoden yn gweithredu yng nghanolbwynt AB . [7]
- b) A yw nawr yn bosibl darganfod ydy'r rhoden yn unffurf neu'n anunffurf (*non-uniform*)? Rhowch reswm dros eich ateb. [1]

0	8
---	---

Mae bachgen yn cicio pêl o bwynt O ar ddaear lorweddol tuag at wal fertigol AB . Buanedd cychwynnol y bêl yw 23 ms^{-1} i gyfeiriad sydd 18° uwchben y llorweddol. Mae'r diagram isod yn dangos ffenestr CD yn y wal AB , fel bod $BD = 1.1\text{ m}$ a $BC = 2.2\text{ m}$. Y pellter llorweddol o O i B yw 8 m .



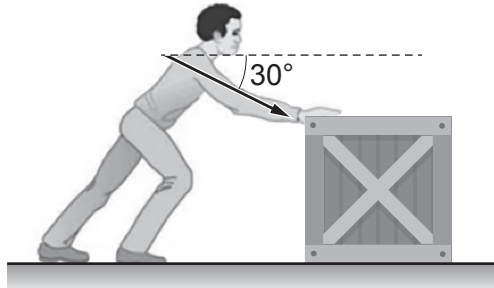
Gallwch chi dybio (*assume*) bydd y ffenestr yn torri os bydd y bêl yn ei tharo â buanedd sydd o leiaf 21 ms^{-1} .

- Dangoswch fod y bêl yn taro'r ffenestr a darganfyddwch a fydd y ffenestr yn torri neu beidio. [7]
- Rhowch un rheswm pam efallai bydd eich ateb i ran (a) yn annibynadwy (*unreliable*). [1]

TROWCH Y DUDALEN

0 9

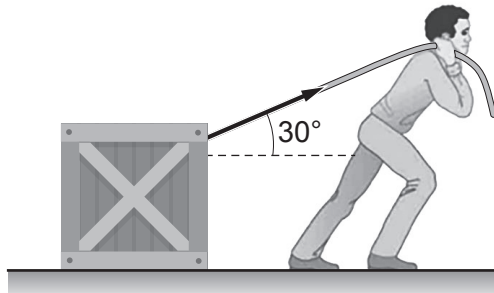
Mae'r diagram isod yn dangos cawell bren (*wooden crate*), màs 35 kg, yn cael ei gwthio ar lawr llorweddol garw, gan rym sydd â'r maint 380 N wedi'i oleddu (*inclined*) ar ongl o 30° islaw'r llorweddol. Mae'n bosibl modelu'r gawell fel gronyn. Mae'r gawell yn symud ar fuanedd cyson.



- a) Y cyfernod ffrithiant rhwng y gawell a'r llawr yw μ . Dangoswch fod

$$\mu = \frac{190\sqrt{3}}{533} . \quad [6]$$

Tybiwch yn lle hyn fod y gawell yn cael ei thynnu â'r un grym o 380 N wedi'i oleddu ar ongl o 30° uwchben y llorweddol, fel sydd i'w weld yn y diagram isod.



- b) Heb wneud dim mwy o waith cyfrifo, esboniwch pam na fydd y gawell bellach yn symud ar fuanedd cyson. [1]

1	0
---	---

Mae trê'n yn symud ar hyd trac llorweddol syth. Ar amser t eiliad, ei gyflymder yw $v \text{ ms}^{-1}$, ei gyflymiad yw $a \text{ ms}^{-2}$, ac mae a mewn cyfrannedd gwrthdro â v . Ar amser $t = 1$, $v = 5$ ac $a = 1.8$.

- a) i) Ysgrifennwch hafaliad differol sy'n cael ei fodloni gan v .
- ii) Dangoswch fod $v^2 = 18t + 7$. [6]
- b) Darganfyddwch yr amser pan mae maint (*magnitude*) y cyflymder yn hafal i faint y cyflymiad. [2]

DIWEDD Y PAPUR

TUDALEN WAG

TUDALEN WAG