

Nfed Term

1.

Darganfyddwch *n*fed term y dilyniannau canlynol.

(a) 3, 13, 23, 33, 43,

.....
 [2]

(b) 50, 40, 30, 20, 10,

.....
 [2]

2.

Ysgrifennwch fynegiad ar gyfer *n*fed term y dilyniant canlynol. [2]

10, 21, 32, 43, 54,

.....

*n*fed term

3.

Ysgrifennwch *n*fed term y dilyniannau canlynol.

(a) 6, 13, 20, 27,

.....
 [2]

(b) 26, 20, 14, 8,

.....
 [2]

4.

(a) Darganfyddwch yr *n*fed term ar gyfer y dilyniant canlynol.

12, 9, 6, 3, 0, -3, ...

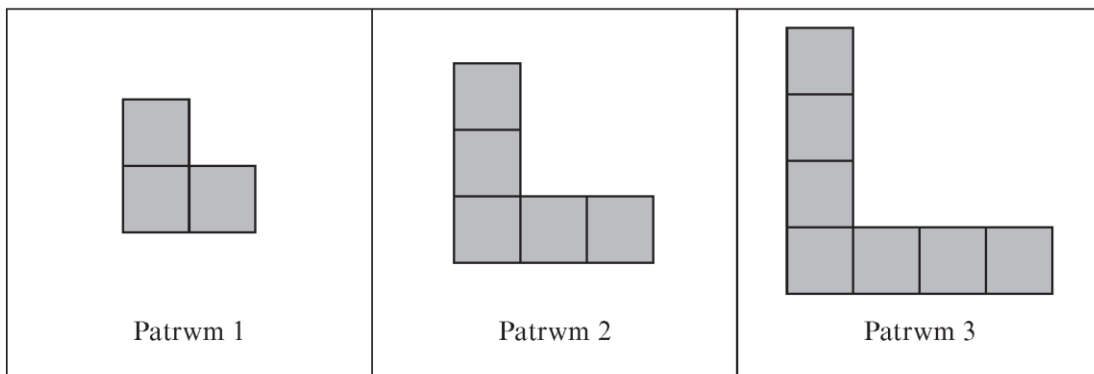
.....

.....

.....

[2]

(b) Mae patrymau'n cael eu gwneud gan ddefnyddio sgwariau bach.



Darganfyddwch fynegiad ar gyfer nifer y sgwariau ym Mhatrwm *n*.

.....

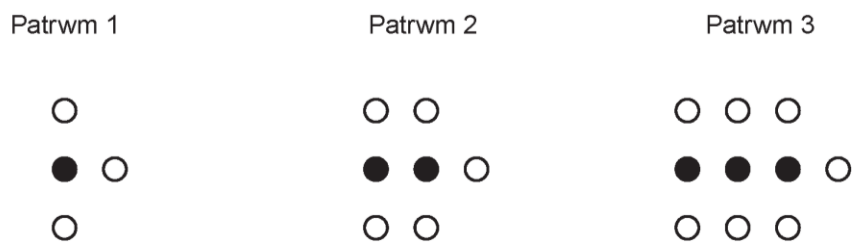
.....

.....

[2]

5.

Mae patrymau sydd wedi'u gwneud â chylchoedd du a gwyn yn cael eu dangos isod.



Cwblhewch y gosodiadau canlynol, yn nhermau *n*.

[3]

'Bydd o gylchoedd du ym Mhatrwm *n*.'


'Bydd o gylchoedd gwyn ym Mhatrwm *n*.'

.....

.....

6.

Mae Dewi yn ysgrifennu 6 rhif cyntaf dilyniant ar lyfr nodiadau.



- (a) (i) Ysgrifennwch n fed term dilyniant Dewi. [2]

.....

.....

- (ii) Mae Carys yn dweud bod 149 yn y dilyniant sydd gan Dewi.
Ydy Carys yn gywir?
Rhaid i chi egluro eich ateb. [1]

.....

.....

.....

.....

.....

.....

