



TAG UG/UWCH

2305N20-1



Z22-2305N20-1

DYDD LLUN, 23 MAI 2022 – PRYNHAWN

MATHEMATEG BELLACH – UG uned 2
YSTADEGAETH BELLACH A

1 awr 30 munud

2305N201
01

DEUNYDDIAU YCHWANEGOL

Yn ogystal â'r papur arholiad hwn, bydd angen:

- llyfryn ateb 16 tudalen CBAC (pinc);
- Llyfryn Fformiwlâu;
- cyfrifiannell;
- tablau ystadegol (Cyhoeddiadau RND/CBAC).

CYFARWYDDIADAU I YMGEISWYR

Defnyddiwch inc neu feiro du.

Atebwch **bob** cwestiwn.

Rhaid dangos gwaith cyfrifo digonol er mwyn egluro'r dull **mathemategol** sy'n cael ei ddefnyddio.

Mae'n bosibl na fydd atebion heb waith cyfrifo yn derbyn marciau llawn.

Os nad yw'r lefel o fanwl gywirdeb yn cael ei nodi yn y cwestiwn, dylech chi dalgrynnu atebion yn briodol.

GWYBODAETH I YMGEISWYR

70 yw cyfanswm y marciau ar gyfer y papur hwn.

Mae nifer y marciau wedi'i nodi mewn cromfachau ar ddiwedd pob cwestiwn neu ran o gwestiwn.

Cofiwch fod angen Cymraeg da a chyflwyniad trefnus yn eich atebion.

Nodyn atgoffa: Rhaid dangos gwaith cyfrifo digonol er mwyn egluro'r dull **mathemategol** sy'n cael ei ddefnyddio.

1. Mae'r dosraniad tebygolrwydd ar gyfer yr arian gwobrwyo, £ X y tocyn (*per ticket*), mewn loteri leol ar gyfer codi arian i'w weld isod.

x	0	2	100	1000
$P(X = x)$	0.9	0.09	p	0.0001

- (a) Cyfrifwch werth p . [1]
- (b) Darganfyddwch $E(X)$ a $\text{Var}(X)$. [4]
- (c) (i) Beth yw'r pris isaf am docyn loteri dylai'r trefnydd ei osod er mwyn gwneud elw yn y tymor hir?
 (ii) Awgrymwch pam, yn ymarferol, byddai pobl yn barod i dalu mwy na'r pris isaf hwn. [2]
2. Mae economegydd yn awgrymu bod cyfradd diweithdra a chyfradd chwyddiant cyflogau yn annibynnol. Mae Amy yn ymchwilio i'r awgrym hwn. Mae hi'n casglu data diweithdra a data chwyddiant cyflogau o hapsampl o ranbarthau yn y DU (*UK*) ac mae hi'n penderfynu ei bod yn briodol gwneud prawf arwyddocâd ar gyfernod cydberthyniad moment lluoswm Pearson.

Mae crynodeb o ystadegau Amy ar gyfer canran y diweithdra, x , a chanran y chwyddiant cyflogau, y , i'w weld isod.

$$\begin{array}{lll} \sum x = 62.8 & \sum y = 19.4 & n = 10 \\ \sum x^2 = 413.44 & \sum y^2 = 46.16 & \sum xy = 113.16 \end{array}$$

- (a) Cyfrifwch gyfernod cydberthyniad moment lluoswm Pearson ar gyfer y data hyn. [4]
- (b) Gwnewch brawf Amy ar y lefel 5% o arwyddocâd a nodwch a yw awgrym yr economegydd yn rhesymol. [4]
- Mae Amy hefyd yn casglu data diweithdra a data chwyddiant cyflogau o hapsampl o 10 rhanbarth yn Sbaen ac mae hi'n cyfrifo mai -0.2525 yw cyfernod cydberthyniad moment lluoswm Pearson.
- (c) A ddylai hyn newid barn Amy am awgrym yr economegydd uchod? Beth gallai hi ei wneud i wella ei hymchwiliad? [2]
- (ch) Pa dybiaeth (*assumption*) mae Amy wedi ei gwneud wrth benderfynu ei bod yn briodol gwneud prawf arwyddocâd ar gyfernod cydberthyniad moment lluoswm Pearson? [1]

3. Mae dau chwaraewr pêl-fasged, Steph a Klay, yn sgorio basgedi ar hap ar gyfradd o 2:1 ac 1:9 yn ôl eu trefn (*respectively*) am bob chwarter gêm. Tybiwch fod basgedi'n cael eu sgorio'n annibynnol, a bod Steph yn ogystal â Klay yn chwarae pob un o bedwar chwarter y gêm.
- (a) Gan nodi'r model rydych chi'n ei ddefnyddio, darganfyddwch y tebygolrwydd y byddan nhw'n sgorio cyfanswm cyfunol (*combined total*) o 20 basged yn union mewn gêm sy'n cael ei hapddewis. [4]
- (b) Mae chwarter gêm yn para 12 munud.
- (i) Nodwch ddosraniad yr amser rhwng basgedi ar gyfer Steph. Rhowch gymedr a gwyriad safonol y dosraniad hwn.
- (ii) O wybod bod Klay yn sgorio ar ddiwedd y trydydd munud mewn chwarter gêm, darganfyddwch y tebygolrwydd nad yw Klay yn sgorio am weddill y chwarter. [5]
- (c) Pan mae Klay yn ymarfer, mae e'n methu (*misses*) 4% o'r tafladau rhydd mae e'n eu cymryd. Un wythnos mae e'n cymryd 530 o dafladau rhydd. Cyfrifwch y tebygolrwydd ei fod e'n methu mwy na 25 taflad rhydd. [2]

4. Mae gan yr hapnewidyn di-dor R ffwythiant dwysedd tebygolrwydd $f(r)$ sy'n cael ei roi gan

$$f(r) = \begin{cases} kr(b-r) & \text{ar gyfer } 1 \leq r \leq 4, \\ 0 & \text{fel arall,} \end{cases}$$

Ile mae k a b yn gysonion positif.

- (a) Esboniwch pam mae $b \geq 4$. [2]
- (b) O wybod bod $b = 4$,
- (i) dangoswch fod $k = \frac{1}{9}$,
- (ii) darganfyddwch fynegiad ar gyfer $F(r)$, sy'n ddilys ar gyfer $1 \leq r \leq 4$, lle mae F yn dynodi'r ffwythiant dosraniad cronus o R ,
- (iii) darganfyddwch y tebygolrwydd bod R i'w gael rhwng 2 a 3. [10]

5. Mae gan John gêm sy'n cynnwys taflu set o dri dis ciwbigol unfath (*identical*) sydd â'r rhifau o 1 i 6 ar yr wynebau. Mae John eisiau ymchwilio i weld a yw'r disiau hyn yn deg o ran sawl un sy'n glanio ar chwech wrth gael eu taflu. Mae e'n taflu'r set o dri dis 1100 o weithiau ac yn cofnodi sawl un sy'n glanio ar chwech ar gyfer pob taflad. Mae'r canlyniadau i'w gweld yn y tabl isod.

Sawl un sy'n glanio ar chwech	0	1	2	3
Amllder	625	384	81	10

Gan ddefnyddio'r canlyniadau hyn, gwnewch brawf llwyddiant y ffit (*goodness of fit*) a dewch i gasgliad priodol. [11]

TROWCH Y DUDALEN

6. Mae arolwg ar-lein am y defnydd o gyfryngau cymdeithasol yn gofyn y cwestiwn canlynol:

“Ydych chi'n defnyddio unrhyw fath o gyfryngau cymdeithasol?”

Mae'r canlyniadau ar gyfer cyfanswm o 1953 o atebwyr i'w gweld yn y tabl isod.

	Oed mewn blynyddoedd				
Defnyddio cyfryngau cymdeithasol	18-29	30-49	50-64	65 neu'n hŷn	Cyfanswm
Ydw	310	412	348	196	1266
Nac ydw	42	116	196	333	687
Cyfanswm	352	528	544	529	1953

Er mwyn profi (*test*) a oes perthynas rhwng defnyddio cyfryngau cymdeithasol ac oed, mae prawf arwyddocâd ar y lefel 5% yn cael ei wneud.

- (a) Nodwch y rhagdybiaeth nwl a'r rhagdybiaeth arall (*alternative*). [1]
- (b) Dangoswch sut mae'r amllder disgwylidig 228.18 yn cael ei gyfrifo yn y tabl isod. [1]

<i>Gwerthoedd disgwylidig</i>	Oed mewn blynyddoedd			
Defnyddio cyfryngau cymdeithasol	18-29	30-49	50-64	65 neu'n hŷn
Ydw	228.18	342.27	352.64	342.92
Nac ydw	123.82	185.73	191.36	186.08

- (c) Darganfyddwch werth s yn y tabl isod. [2]

<i>Cyfraniadau Chi-Sgwâr</i>	Oed mewn blynyddoedd			
Defnyddio cyfryngau cymdeithasol	18-29	30-49	50-64	65 neu'n hŷn
Ydw	29.34	s	0.06	62.94
Nac ydw	54.07	26.18	0.11	115.99

- (ch) Cwblhewch y prawf arwyddocâd, gan ddangos eich holl waith cyfrifo. [6]

- (d) Mae myfyriwr, sy'n dadansoddi'r data hyn ar daenlen, yn cael yr allbwn canlynol.

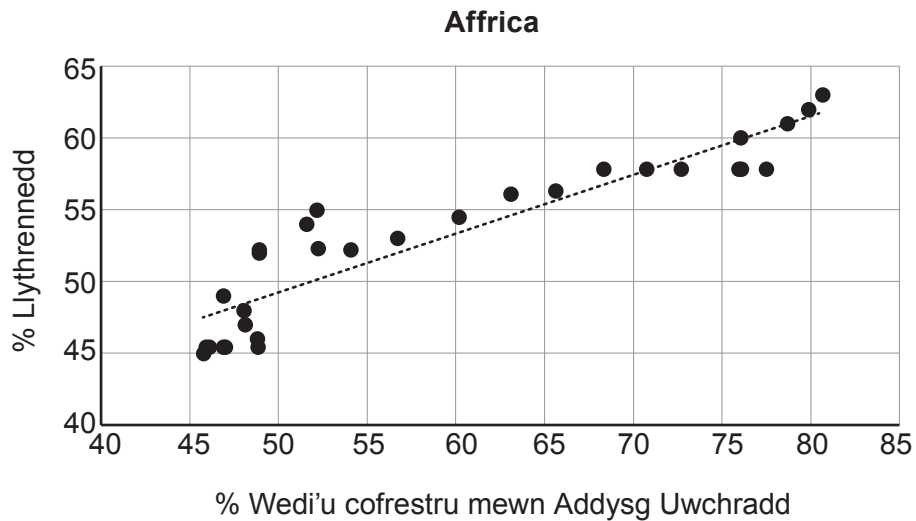
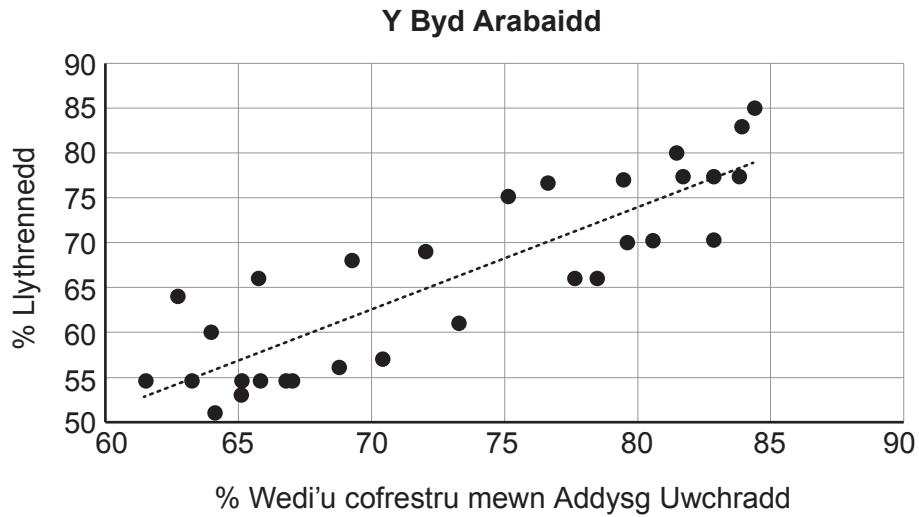
	CHISQ.TEST(B13:E14,I13:L14)	p value=	0.07894	

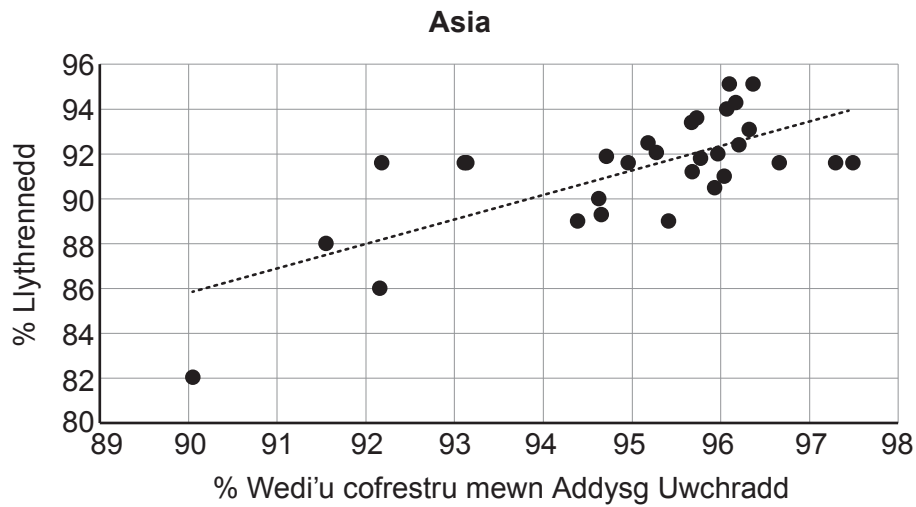
Esboniwch pam mae'n rhaid bod y myfyriwr wedi gwneud camgymeriad wrth gyfrifo'r gwerth- p .

[1]

TROWCH Y DUDALEN

7. Mae data, sy'n dod o set fawr o ddata, yn dangos canran y plant sydd wedi'u cofrestru mewn addysg uwchradd a chanran y boblogaeth o oedolion sy'n llythrennog (*literate*). Mae'r graffiau canlynol yn dangos data o 30 o ranbarthau sydd wedi'u hapddewis o bob un o'r canlynol: Y Byd Arabaidd, Affrica ac Asia. Ym mhob achos, mae llinell atchwel sgwariau lleiaf '% Llythrennedd' ar '% Wedi'u cofrestru mewn Addysg Uwchradd' i'w gweld.





- (a) Cyfrifwch hafaliad llinell atchwel sgwariau lleiaf '% Llythrennedd' (y) ar '% Wedi'u cofrestru mewn Addysg Uwchradd' (x) ar gyfer Asia, o wybod yr ystadegau crynhoi canlynol.

[5]

$$\begin{aligned} \sum x &= 2850.836 & \sum y &= 2738.656 & S_{xx} &= 88.42142 \\ S_{yy} &= 204.733 & S_{xy} &= 96.60984 & n &= 30 \end{aligned}$$

- (b) Mae pob un o'r Byd Arabaidd, Affrica ac Asia yn cynnwys rhanbarth lle mae 70% wedi'u cofrestru mewn addysg uwchradd. Mae'r tair llinell atchwel yn cael eu defnyddio i amcangyfrif y % Llythrennedd cyfatebol. Pa un o'r amcangyfrifon hyn sy'n debygol o fod yn fwyaf dibynadwy? Esboniwch eich rhesymu yn glir.

[2]

DIWEDD Y PAPUR