

# Rhufeiniaid

# Rhifedd



**Enw:** \_\_\_\_\_

**Dosbarth Cofrestru:** \_\_\_\_\_

**Athro Mathemateg:** \_\_\_\_\_

# Llenwch y Rhifau Rhufeinig:

1	2	3	4	5	6	7	8	9	10
11	12	13	14	15	16	17	18	19	20
21	22	23	24	25	26	27	28	29	30
31	32	33	34	35	36	37	38	39	40
41	42	43	44	45	46	47	48	49	50
51	52	53	54	55	56	57	58	59	60
61	62	63	64	65	66	67	68	69	70
71	72	73	74	75	76	77	78	79	80
81	82	83	84	85	86	87	88	89	90
91	92	93	94	95	96	97	98	99	100

Kwdr: Dr. Gareth Evans, [www.mathemateg.com](http://www.mathemateg.com), 29 Gorffennaf 2025

# Rhufeiniaid Rhifedd

## Cyfarwyddiadau:

Llenwch yr atebion yn y bocsys cyn marcio'ch gwaith gan ddefnyddio'r atebion gan yr athro.







# Rhufeiniaid Rhifedd: Sesiwn 01



Sgôr: \_\_\_\_\_ Pwy ydych chi? \_\_\_\_\_

## Gladiator

1) $4 \times 7 =$	2) $27 + 34 =$	3) $27 \div 3 =$
4) $3 \text{ m} = \text{_____ cm}$	5) Tynnwch 37c o £1.21 =	6) $\frac{1}{2}$ awr cyn 14:03 =
7) Chwarter o 24 =	8) $1.2 + 1.9 =$	9) 50% o 14 =

## Dinesydd

10) Sawl hanner sydd mewn $3\frac{1}{2}$ ?	11) Cymedr 10, 5, 3 =	12) Amrediad 1, 3, 2, 4 =
13) 9.55 i un lle degol =	14) $8 - 6 \div 2 =$	15) $2^3 =$
16) $\sqrt{16} =$	17) 35% fel degolyn =	18) 3 awr = _____ munud

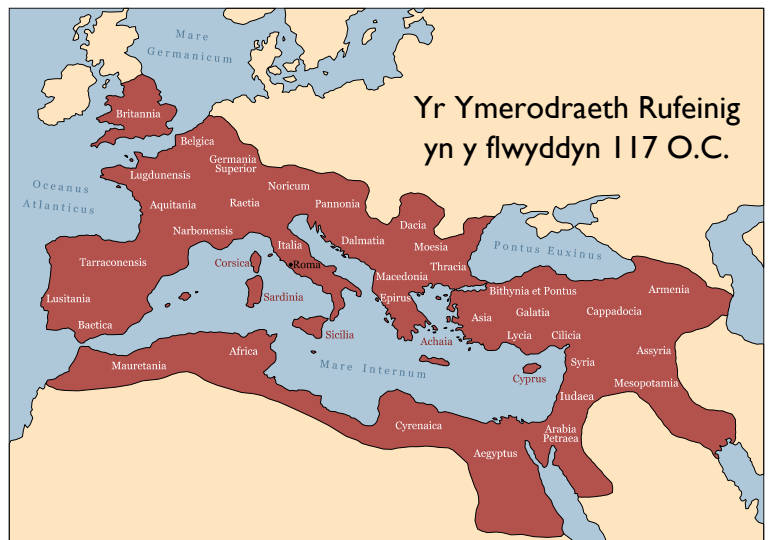
## Ymerawdwr

19) $5 \times 0.6 =$	20) Cilydd $\frac{3}{4}$ yw	21) Arwynebedd petryal 8 cm wrth 3 cm =
22) $80 \times \text{_____} = 8$	23) $43 - 68 =$	24) 20% o 14 =
25) Mae darn o gaws 250 g yn costio £1.80. Faint yw'r gost fesul 100 g?		

## Hanes

Tua 2,000 o flynyddoedd yn ôl, roedd dinas **Rhufain** yn Yr Eidal yn gartref i **Ymerodraeth (Empire)** enfawr a oedd yn ymestyn dros Ewrop, Gogledd Affrica ag Asia.

Ar ei fwyaf, roedd yr Ymerodraeth yn teyrnasu dros 45 miliwn o bobl. Tyfodd Rhufain o fod yn dref fach i fod yn ddinas enfawr.





# Rhufeiniaid Rhifedd: Sesiwn 02



Sgôr: \_\_\_\_\_ Pwy ydych chi? \_\_\_\_\_

## Gladiator

1) $2 \times 12 =$	2) $63 + 20 =$	3) $30 \div 5 =$
4) $5 \text{ cm} = \text{_____ mm}$	5) $5^2 =$	6) Ochrau mewn pentagon =
7) $\frac{1}{4} = \text{_____ \%}$	8) $14 \times 2 =$	9) $50\% \text{ o } 16 =$

## Dinesydd

10) Perimedwr petryal 8 cm wrth 5 cm =	11) Cymedr 1, 2, 3, 4, 5 =	12) Amrediad 1, 2, 3, 4, 5 =
13) 0.246 i ddau le degol =	14) $2 + 4 \times 6 =$	15) $30\% \text{ o } 40 =$
16) $\sqrt{36} =$	17) 25% fel ffracsiwn =	18) 3 diwrnod = _____ awr

## Ymerawdwr

19) $3 \times 2.4 =$	20) $(3 + 5) \times 4 =$	21) Cyfaint ciwb efo ochrau 3 cm =
22) $4 \div 0.5 =$	23) $1.6 - 0.7 =$	24) 253 i un ffigur ystyrlon =
25) Sawl cacen 49c mae Claudius yn gallu prynu efo papur £5?		

## Hanes

Yn ôl y chwedl, sefydlwyd Rhufain gan yr efeilliaid **Romulus** a **Remus**, yn y flwyddyn 753 C.C. Gadawyd y brodyr i foddï yn yr afon Tiber gan eu hewythr blin, ond fe achubwyd y bechgyn ifanc gan flaidd (gweler y cerflun ar y dde).

Penderfynodd yr efeilliaid ddechrau dinas newydd, ond nid oeddent yn gallu cytuno ble i'w leoli. Yn ystod un ffrae, fe laddwyd Remus. Penderfynodd Romulus enwi'r ddinas newydd ar ei ôl.





# Rhufeiniaid Rhifedd: Sesiwn 03



Sgôr: \_\_\_\_\_ Pwy ydych chi? \_\_\_\_\_

## Gladiator

1) $6 \times 5 =$	2) $19 + 13 =$	3) $28 \div 2 =$
4) $1 \text{ kg} = \text{_____ g}$	5) $6^2 =$	6) $7 - 10 =$
7) $\frac{1}{2} = \text{_____ \%}$	8) $13 \times 3 =$	9) $10\% \text{ o } 70 =$

## Dinesydd

10) Arwynebedd petryal 4 cm wrth 3 cm =	11) Cymedr 3, 2, 7 =	12) Amrediad 8, 4, 9 =
13) 12.36 i un lle degol =	14) $4 + 5 \times 2 =$	15) $20\% \text{ o } 15 =$
16) $\sqrt{9} =$	17) 24% fel degolyn =	18) 2 funud = _____ eiliad


## Ymerawdwr

19) $4 \times 0.3 =$	20) Perimedwr petryal 6 cm wrth 3.5 cm =	21) Cyfaint ciwboid 2 cm wrth 3 cm wrth 4 cm =
22) $2.4 \div 0.4 =$	23) $147 - 89 =$	24) 5.208 i'r uned agosaf =
25) $49 \times 6 =$		

## Hanes

Yn y dyddiau cynnar, brenhinoedd oedd yn teyrnasu Rhufain. Yn ôl y chwedl, Romulus oedd y brenin cyntaf.

Y brenin olaf oedd **Tarquinius Superbus** (gweler y penddelw ar y dde), a yrrwyd allan gan bobl Rhufain yn y flwyddyn 509 C.C. Sefydlwyd system **weriniaethol** (*republic*) yn lle'r **frenhiniaeth** (*monarchy*). Yn y system yma, roedd **dau gonswl** yn cael eu hethol bob blwyddyn, fel na allai'r un ohonynt fynd yn rhy bwerus.





# Rhufeiniaid Rhifedd: Sesiwn 04



Sgôr: \_\_\_\_\_ Pwy ydych chi? \_\_\_\_\_

## Canolbwyntio ar: Talgrynnu

### Gladiator

1) 582 i'r 10 agosaf =	2) 28 i'r 10 agosaf =	3) 389 i'r 10 agosaf =
4) 283 i'r 100 agosaf =	5) 2,829 i'r 100 agosaf =	6) 13,532 i'r 100 agosaf =
7) 4,327 i'r 1,000 agosaf =	8) 14,872 i'r 1,000 agosaf =	9) 624,239 i'r 1,000 agosaf =

### Dinesydd

10) 3.27 i'r uned agosaf =	11) 8.06 i'r uned agosaf =	12) 213.81 i'r uned agosaf =
13) 7.21 i un lle degol =	14) 82.35 i un lle degol =	15) 4.98 i un lle degol =
16) 12.372 i ddau le degol =	17) 287.027 i ddau le degol =	18) 1,245.72502 i ddau le degol =

### Ymerawdwr

19) 83 i un ffigur ystyrllon =	20) 7,622 i un ffigur ystyrllon =	21) 0.0023 i un ffigur ystyrllon =
22) 278 i ddau ffigur ystyrllon =	23) 92,345 i ddau ffigur ystyrllon =	24) 0.002352 i ddau ffigur ystyrllon =
25) Cyfrifwch $2 + 7 \times 3$ , gan roi eich ateb i un ffigur ystyrllon.		

### Hanes

Wrth i'r weriniaeth Rufeinig dyfu mewn grym, felly hefyd gwnaeth ei fyddin. Nid oedd y ddau gonswl na'r seneddwyr eraill bob amser yn gallu rheoli'r fyddin. Yn 49 C.C., **cadfridog** (*general*) mwyaf pwerus Rhufain oedd **Iŵl Cesar**. Ei freuddwyd oedd rheoli Rhufain fel brenin unwaith eto. Nid oedd y seneddwyr yn hoffi'r syniad yma, felly fe laddwyd Cesar ganddynt yn 44 C.C.





# Rhufeiniaid Rhifedd: Sesiwn 05



Sgôr: \_\_\_\_\_ Pwy ydych chi? \_\_\_\_\_

## Gladiator

1) $3 \times 8 =$	2) Deg munud ar ôl 1:54 p.m. =	3) $14 + 28 =$
4) 1 litr = _____ ml	5) $15 \div 2 =$	6) $0.4 + 0.2 =$
7) $£1.23 + £0.17 =$	8) Mehefin = _____ diwrnod	9) 10% o £200 =

## Dinesydd

10) Arwynebedd petryal 6 cm wrth 8 cm =	11) Canolrif 3, 2, 7 =	12) 65% fel degolyn =
13) 9.6 i'r uned agosaf =	14) $5 - 2 + 3 =$	15) $2 \times \text{_____} = 52$
16) $7^2 =$	17) Hanner 70 =	18) 13:42 yn y cloc 12 awr =

## Ymerawdwr

19) $5 + 0.2 + 0.14 =$	20) Mae gan giwb _____ wyneb	21) $3 \div 0.25 =$
22) $\frac{1}{2} + \frac{1}{4} =$	23) Cylchwch y rhif mwyaf: 0.23      22% $\frac{1}{4}$	24) 23.5 i un ffigur ystyrlon =
25) Beth yw cyfanswm y deg eilrif cyntaf, gan gychwyn efo 2?		

## Hanes

Yn dilyn lladd Iŵl Cesar, datblygodd **rhyfel cartref** yn Rhufain rhwng y gweriniaethwyr a chefnogwyr Cesar. Wedi buddugoliaeth ger **Gwlff Actium**, ar arfordir Gwald Groeg, daeth **Octavianus**, nai Cesar, yn rheolwr Rhufain, yn 27 C.C. Newidiodd ei enw i **Augustus**, ac ystyrir ef fel yr **Ymerawdwr (Emperor)** cyntaf.





# Rhufeiniaid Rhifedd: Sesiwn 06



Sgôr: \_\_\_\_\_ Pwy ydych chi? \_\_\_\_\_

## Gladiator

1) _____ + 15 = 24	2) $9 \times 6 =$	3) $70 \div 5 =$
4) $2\frac{1}{2}$ kg = _____ g	5) 50% o 42 =	6) Ionawr = _____ diwrnod
7) $\frac{1}{4} =$ _____ %	8) $13 + 14 + 15 =$	9) $\pounds 2.50 \times 3 =$

## Dinesydd

10) $6 - -2 =$	11) Modd 3, 2, 7, 2 =	12) Cymedr 6, 5, 4, 3 =
13) 98.7 i'r uned agosaf =	14) $\frac{3}{10}$ o 70 =	15) _____ + 5.4 = 10
16) $435 +$ _____ = 1,000	17) 0.32 fel canran =	18) Arwynebedd triongl efo sail 4 cm ag uchder 3 cm =

## Ymerawdwr

19) $7 \times 0.8 =$	20) $1.2 \div 2 =$	21) $2^4 =$
22) $7 + 3 \times 4 =$	23) 40% o $\pounds 20 =$	24) 473,204 i ddau ffigur ystyrlon =
25) Mae moron yn costio 12c am 100 g. Beth yw cost 500 g o foron?		

## Hanes

Erbyn y flwyddyn 41 O.C., **Claudius** oedd yr Ymerawdwr Rhufeinig. Efe oedd y 4ydd Ymerawdwr, a'r cyntaf i gael ei eni tu allan i'r Eidal.

Yn 43 O.C., danfonodd bedair lleng (*legion*) i geisio concro Prydain. Nid oedd lŵl Cesar na **Caligula** gynt wedi gallu gwneud hyn – ond cafodd Claudius fwy o lwyddiant. Yn dilyn yr ymgyrchoedd cyntaf, teithiodd Claudius ei hun i **Camulodunum** (Colchester heddiw) gyda milwyr ychwanegol ac eliffantod rhyfel!





# Rhufeiniaid Rhifedd: Sesiwn 07



Sgôr: \_\_\_\_\_ Pwy ydych chi? \_\_\_\_\_

## Gladiator

1) $24 + \underline{\hspace{2cm}} = 31$	2) $7 \times 8 =$	3) $30 \div 4 =$
4) $1\frac{3}{4} \text{ m} = \underline{\hspace{2cm}} \text{ cm}$	5) $25\% \text{ o } 24 =$	6) Ebrill = _____ diwrnod
7) $\frac{1}{5} = \underline{\hspace{2cm}} \%$	8) $28 - 11 - 7 =$	9) $\text{£}1.30 \times 4 =$

## Dinesydd

10) $7 + -3 =$	11) Canolrif 4, 6, 8, 10 =	12) Amrediad 6, 4, 2, 8 =
13) 19.07 i'r uned agosaf =	14) $\frac{7}{10} \text{ o } 60 =$	15) _____ + 2.3 = 10
16) $873 + \underline{\hspace{2cm}} = 1,000$	17) 0.86 fel canran =	18) Arwynebedd triongl efo sail 6 cm ag uchder 4 cm =

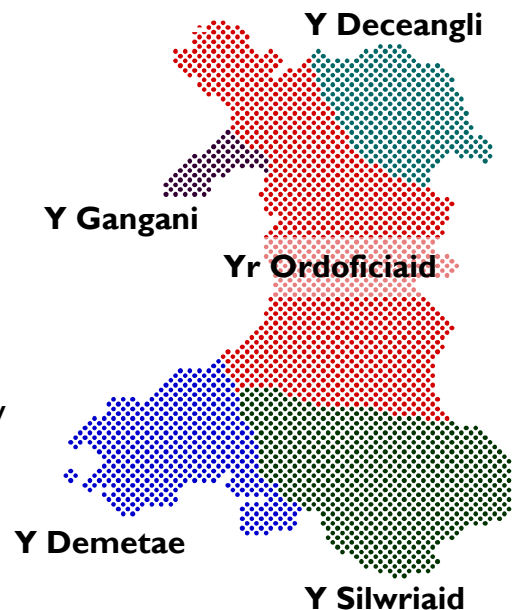
## Ymerawdwr

19) $3 \times 0.2 =$	20) $3.6 \div 3 =$	21) Cilydd $\frac{2}{7}$ yw
22) $9 - 6 \div 2 =$	23) $60\% \text{ o } \text{£}50 =$	24) 21,468 i un ffigur ystyrlon =
25) $30.2 - 2.04 =$		

## Hanes

Ymosododd byddin Claudius ar Gymru tua'r flwyddyn 48 O.C., pum mlynedd ar ôl iddynt gyrraedd Prydain Fawr.

Ar y pryd, nid oedd Cymru'n bodoli fel yr ydym yn ei adnabod heddiw. Roedd nifer o **lwythi Celtaidd** (Celtic tribes) yn byw yn y wlad, fel sy'n cael eu dangos ar y map. Nid ydym yn gwybod pa mor hir y bu'r llwythi yma yn byw yng Nghymru cyn i'r Rhufeiniaid gyrraedd.





# Rhufeiniaid Rhifedd: Sesiwn 08



Sgôr: \_\_\_\_\_ Pwy ydych chi? \_\_\_\_\_

## Canolbwyntio ar: Canrannau

### Gladiator

1) $50\% \circ 30 =$	2) $50\% \circ 140 =$	3) $50\% \circ 19 =$
4) $10\% \circ 60 =$	5) $10\% \circ 170 =$	6) $10\% \circ 85 =$
7) $25\% \circ £40 =$	8) $25\% \circ £120 =$	9) $25\% \circ £32 =$

### Dinesydd

10) $20\% \circ 40 =$	11) $30\% \circ 80 =$	12) $40\% \circ 40 =$
13) 45% fel degolyn =	14) 12% fel degolyn =	15) 4% fel degolyn =
16) 99% fel ffracsiwn =	17) 19% fel ffracsiwn =	18) 9% fel ffracsiwn =

### Ymerawdwr

19) $15\% \circ £50 =$	20) $5\% \circ £20 =$	21) $1\% \circ £87 =$
22) $3\% \circ \$50 =$	23) $150\% \circ 400 =$	24) $0.1\% \circ 600 =$
25) Mae gostyngiad o 40% yn y pris mewn sêl. Mae esgidiau cerdded yn costio £35 fel arfer. Beth fydd pris yr esgidiau cerdded yn y sêl?		

### Hanes

Un o'r rhai a wrthwynebodd ymosodiad y Rhufeinwyr yng Nghymru oedd **Caradog** (*Caratacus*). Fel brenin un o lwythi mwyaf de-ddwyrain Lloegr, roedd wedi dianc wrth i fyddin Claudius ymosod ar ei diroedd yn 43 O.C. Arweiniodd y Silwriaid a'r Ordoficiaid wrth iddynt wrthryfela yn erbyn y Rhufeiniaid, ond fe drechwyd Caradog mewn brwydr yn 51 O.C. Cipiwyd ei deulu ac yntau'n fuan wedyn, ac fe'u danfonwyd i Rufain.





# Rhufeiniaid Rhifedd: Sesiwn 09



Sgôr: \_\_\_\_\_ Pwy ydych chi? \_\_\_\_\_

## Gladiator

1) $4 \times 8 =$	2) $4 - 8 =$	3) $4 \div 8 =$
4) I stôn = _____ pwys	5) $1^2 =$	6) 86 i'r 10 agosaf =
7) Hanner o 46 =	8) Chwarter awr ar ôl 11:50 pm =	9) 10% o £140 =

## Dinesydd

10) Nifer o ochrau gan octagon =	11) Cylchwch y ffracsiwn mwyaf: $\frac{1}{8}$ $\frac{2}{3}$ $\frac{5}{10}$	12) Saith yn llai na 20 =
13) 9.5 i'r uned agosaf =	14) $18 \div (12 - 3) =$	15) $73 + \underline{\hspace{2cm}} = 100$
16) $\sqrt{64} =$	17) 3% fel degolyn =	18) 5 munud = _____ eiliad

## Ymerawdwr

19) $3 \times 0.7 =$	20) Perimedwr petryal 1 cm wrth 2 cm =	21) Cost 5 pensil sy'n costio 32c yr un =
22) $0.9 \div 0.3 =$	23) Adiwch 2.4 i 29 =	24) $0.1 \times 0.1 =$
25) Pa ganran o 240 yw 24?		

## Hanes

Ar ôl cyrraedd Rhufain, derbyniodd Caradog y cyfle i siarad o flaen Claudius yn y senedd. Mewn araith (*speech*) enwog, clodforodd (*praised*) y milwyr Rhufeinig am eu bod wedi ei ddal. Gwnaeth yr araith yma gymaint o argraff fel i Garadog dderbyn **pardwn** a chael byw yn rhydd yn Rhufain am weddill ei fywyd!





# Rhufeiniaid Rhifedd: Sesiwn 10



Sgôr: \_\_\_\_\_ Pwy ydych chi? \_\_\_\_\_

## Gladiator

1) $3 \times 11 =$	2) $24 + 27 =$	3) $54 \div 6 =$
4) $\frac{1}{4}$ munud = _____ eiliad	5) $5 \times -3 =$	6) 3,450 i'r 1,000 agosaf =
7) 5:30 pm yn y cloc 24 awr =	8) Mae $76^\circ$ yn ongl _____	9) 50% o 40 =

## Dinesydd

10) $0.5 + 0.7 =$	11) Adiwch 2.4 i 9 =	12) Canolrif 7, 2, 5 =
13) 76.906 i un lle degol =	14) $16 \times (3 + 7) =$	15) 20% o £15 =
16) $\frac{1}{5}$ km = _____ m	17) $\frac{21}{100}$ fel degolyn =	18) 8 wedi'i sgwario =

## Ymerawdwr

19) 4 awr cyn 1:34 am =	20) $6 \times 0 =$	21) $0.5 \times 9 =$
22) $2.1 \div 0.7 =$	23) $264 - 178 =$	24) 43.5 i un ffigur ystyrlon =
25) Mae Romulus a Remus yn rhannu arian yn ôl y gymhareb 3:2. Mae Romulus yn cael £24. Faint o arian mae Remus yn ei dderbyn?		

## Hanes

Ar ôl i'r Rhufeiniaid gyrraedd, roedd rhaid i'r llwythi brodorol (*native tribes*) benderfynu: ildio i gyfraith Rufeinig a thalu trethi (ond cadw eu tiroedd), neu frwydro'n ôl.

Ar ôl blynyddoedd o drethi caled, roedd rhai llwythi Celtaidd yn barod i wrthryfela (*rebel*). Yn y flwyddyn 60 O.C., un arweinydd a wnaeth hyn oedd **Buddug** (Boudica).












# Rhufeiniaid Rhifedd



Ysgrifennwch eich sgoriau  
ar gyfer sesiynau 1–10:



Beth yw cyfanswm y sgoriau uchod? \_\_\_\_\_

Beth yw cymedr y sgoriau uchod? \_\_\_\_\_

Beth yw amrediad y sgoriau uchod? \_\_\_\_\_

Beth ydych yn gwneud yn dda / gweld yn hawdd?

---

---

Beth ydych angen gwella / gweld yn anodd?

---

---

---

---



# Rhufeiniaid Rhifedd

## Adolygu'r Hanes



1) Faint o bobl oedd yn byw yn Yr Ymerodraeth Rufeinig, ar ei fwyaf?

---

2) Pryd sefydlwyd Rhufain gan yr efeilliaid Romulus a Remus?

---

3) Pwy oedd brenin olaf yr ymerodraeth?

---

4) Pwy oedd cadfridog mwyaf pwerus Rhufain yn 49 C.C.?

---

5) Pwy oedd Ymerawdwr cyntaf yr ymerodraeth?

---

6) Pa anifeiliaid ddaeth Claudius ag ef i Brydain?

---

7) Faint o lwythi Celtaidd oedd yn byw yng Nghymru cyn i'r Rhufeiniaid gyrraedd?

---

8) Pryd drechwyd Caradog mewn brwydr?

---



# Rhufeiniaid Rhifedd: Sesiwn 11



Sgôr: \_\_\_\_\_ Pwy ydych chi? \_\_\_\_\_

## Gladiator

1) $5 \times 7 =$	2) $45 - 16 =$	3) $42 \div 7 =$
4) Cylchwch yr ateb cywir: Mae 26 yn odrif / eilrif.	5) $4.5 + 2.5 =$	6) 271 i'r 100 agosaf =
7) 22:31 yn y cloc 12 awr =	8) $25 - 0.2 =$	9) 10% o £1.30 =

## Dinesydd

10) Modd 2, 3, 4, 2 =	11) Canolrif 2, 3, 4, 2 =	12) Amrediad 2, 3, 4, 2 =
13) 0.26 i un lle degol =	14) $3 - 2 + 1 =$	15) 90% o £1,000 =
16) $\frac{1}{2}$ litr = _____ ml	17) $\frac{3}{100}$ fel canran =	18) 2 wedi'i giwbio =

## Ymerawdwr

19) $0.3 \times 0.1 =$	20) Mae gan giwboid _____ o fertigau	21) $2.3 - 1.05 =$
22) $\frac{2}{10}$ o £45 =	23) 4,527 i un fffigur ystyrlon =	24) 74.2% fel degolyn =
25) Cyflog Caradog yw £14 yr awr. Un diwrnod, mae Caradog yn gweithio shift 7 awr. Beth yw cyflog Caradog am y diwrnod yma?		

## Hanes

Yn y flwyddyn 59 neu 60 O.C., bu farw'r brenin **Prasutagus**, a oedd yn wŷr i Buddug.

Yn ôl cyfraith Rufeinig, doedd gan Buddug ddim hawl i eiddo'i gŵr. Pan ddaeth milwyr Rhufeinig i geisio cymryd yr eiddo yma, fe wrthododd Buddug, felly fe ymosodwyd ar Buddug a threisio'i merched. Penderfynodd Buddug gynllwynio efo llwythi eraill er mwyn talu'r pwyth yn ôl am hyn.





# Rhufeiniaid Rhifedd: Sesiwn 12



Sgôr: \_\_\_\_\_ Pwy ydych chi? \_\_\_\_\_

## Canolbwyntio ar: Ffracsiynau

### Gladiator

1) $\frac{1}{2}$ o 30 =	2) $\frac{1}{4}$ o 12 =	3) $\frac{1}{5}$ o £15 =
4) $2\frac{1}{2}$ munud = _____ eiliad	5) $3\frac{3}{4}$ kg = _____ g	6) $5\frac{3}{10}$ litr = _____ ml
7) Ysgrifennwch $\frac{6}{12}$ mor syml â phosibl.	8) Ysgrifennwch $\frac{14}{21}$ mor syml â phosibl.	9) Ysgrifennwch $\frac{12}{16}$ mor syml â phosibl.

### Dinesydd

10) $\frac{2}{7} + \frac{3}{7} =$	11) $\frac{5}{9} - \frac{1}{9} =$	12) $\frac{4}{11} + \frac{2}{11} =$
13) $8 \times \frac{1}{4} =$	14) $2 \div \frac{1}{2} =$	15) $\frac{7}{10} \times 20 =$
16) $\frac{1}{5}$ cm = _____ mm	17) $\frac{48}{100}$ fel degolyn =	18) $\frac{2}{100}$ fel canran =

### Ymerawdwr

19) Beth yw hanner o hanner?	20) $\frac{2}{3} + \frac{1}{6} =$	21) $\frac{2}{3} - \frac{1}{6} =$
22) Beth yw 12.5% fel ffracsiwn?	23) Beth yw 0.4 fel ffracsiwn ar ei ffurf symlaf?	24) Beth yw 0.1% fel ffracsiwn?
25) Mae Remus yn meddwl am rif. $\frac{1}{10}$ o'i rif yw 3. Beth yw $\frac{1}{5}$ o'i rif?		

### Hanes

Yn 61 O.C. roedd y Rhufeinwyr wedi teithio i Ynys Môn er mwyn dinistrio canolfan y Derwyddon (*Druids*) yno. Gwelodd Buddug ei chyfle – ymosododd efo'i byddin ar Camulodunum (*Colchester*) cyn gorymdeithio i lawr i **Londinium** (Llundain), gan losgi pob dim yn ei ffordd!





# Rhufeiniaid Rhifedd: Sesiwn 13



Sgôr: \_\_\_\_\_ Pwy ydych chi? \_\_\_\_\_

## Gladiator

1) $4 \times 10 =$	2) $4 - 10 =$	3) $10 \div 4 =$
4) 25% o £20 =	5) Tynnwch 0.09 o 0.1 =	6) $5 \times \underline{\quad} = 60$
7) 2:15 am yn y cloc 24 awr =	8) I troedfedd = ___ modfedd	9) 10% o 23 =

## Dinesydd

10) $2.43 + 0.7 =$	11) Cymedr 4 a 10 yw	12) Amrediad 4 a 10 yw
13) 0.302 i ddau le degol =	14) $(2 + 3) \times (8 - 5) =$	15) 1% o £245 =
16) $3\frac{1}{4}$ m = _____ cm	17) 26% fel degolyn =	18) $4^3 =$

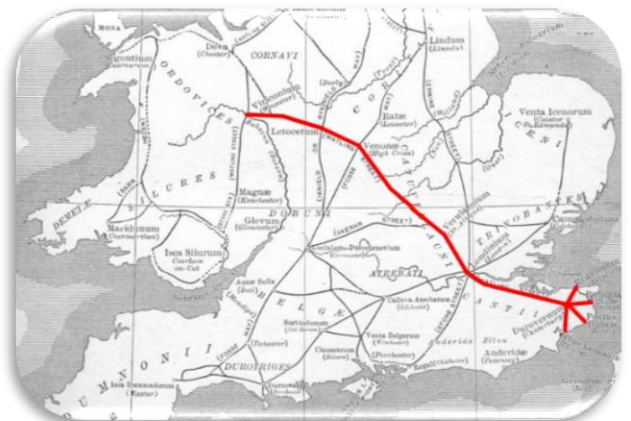
## Ymerawdwr

19) Cilydd $\frac{1}{2}$ yw	20) $14 \times 11 =$	21) $90 \times \underline{\quad} = 9$
22) Mae ___ traean mewn $3\frac{2}{3}$	23) 888,888 i dri ffigur ystyrlon =	24) Cyfaint ciwboid 3 cm wrth 2 cm wrth 2 cm =
25) Mae 4 peint tua 2.27 litr. Faint o litrau yw 6 pheint?		

## Hanes

Gyda Buddug ar derfysg yn Lloegr, galwyd byddin y Rhufeiniaid yn ôl o Gymru i'w hwynebu. Roedd byddin Buddug yn fwy o ran niferoedd (tua 200,000), ond roedd byddin y Rhufeiniaid yn gwisgo gwell arfwisg (*armour*) ac wedi'u hyfforddi'n dda.

Mewn brwydr rhywle ar hyd **Stryd Watling** (gweler y map), trechwyd byddin Buddug, gan ddiweddu'r gwrthwynebiad i'r Rhufeinwyr. Bu Buddug farw trwy'i gwenwyno'i hun (*poison*).





# Rhufeiniaid Rhifedd: Sesiwn 14



Sgôr: \_\_\_\_\_ Pwy ydych chi? \_\_\_\_\_

## Gladiator

1) Ysgrifennwch holl ffactorau 12:	2) $6 \times 8 =$	3) $72 \div 8 =$
4) $£120 - £49.99 =$	5) Hanner 300,000 =	6) $0.15 + \underline{\hspace{2cm}} = 1$
7) 13.45 i un lle degol =	8) Mae $142^\circ$ yn ongl _____	9) 25% o 16 =

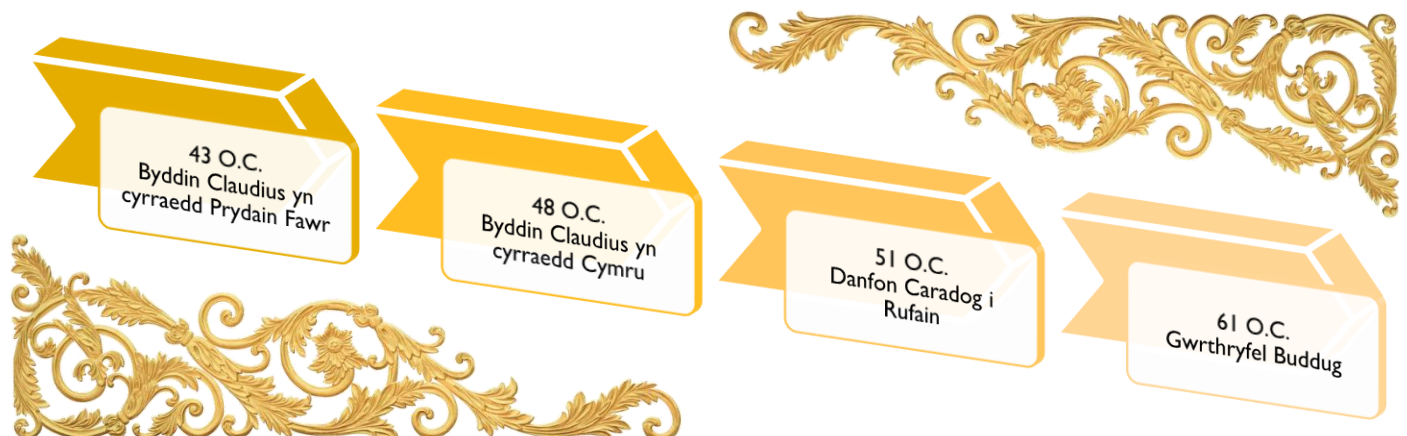
## Dinesydd

10) $1.6 + 3.8 =$	11) Adiwch 13.4 i 2 =	12) Amrediad -2, 1, 6 =
13) $4 \times 3 + 7 \times 3 =$	14) $6 \div 0.5 =$	15) $1 \div 0.2 =$
16) 4,300 g = _____ kg	17) $\frac{3}{5} =$ _____ %	18) Arwynebedd triongl efo sail 7 cm, uchder 6 cm =

## Ymerawdwr

19) $132 \div 12 =$	20) $13 \times 7 =$	21) Gwir neu gau? Mae 2 yn rhif cysefin?
22) $2.7 \div 0.9 =$	23) Mae _____ diwrnod mewn blwyddyn naid	24) 0.002701 i un ffigur ystyrlon =
25) Mae 150 o lyfrau ar silff lyfrau. Mae 12% o'r llyfrau'n sôn am hanes. Sawl llyfr sy'n sôn am hanes?		

## Hanes: Llinell Amser





# Rhufeiniaid Rhifedd: Sesiwn 15



Sgôr: \_\_\_\_\_ Pwy ydych chi? \_\_\_\_\_

## Gladiator

1) $7 \times 6 =$	2) $96 + 8 =$	3) $112 \div 2 =$
4) $3\frac{1}{2}$ munud = _____ eiliad	5) $-4 + 9 =$	6) 258 i'r 10 agosaf =
7) 730 cm = _____ m	8) Gwir neu gau? Mae 6 yn ffactor o 3?	9) 10% o £3 =

## Dinesydd

10) $12\% + 3\% =$	11) Canolrif 4, 8, 1, 5 =	12) Un filiwn mewn ffigurau =
13) 0.276 i ddau le degol =	14) 7% fel degolyn =	15) $£1.87 - 94c =$
16) P'run yw'r hiraf: 1 km neu 1 filltir?	17) $15 \times 5 =$	18) 1 wedi'i giwbio =

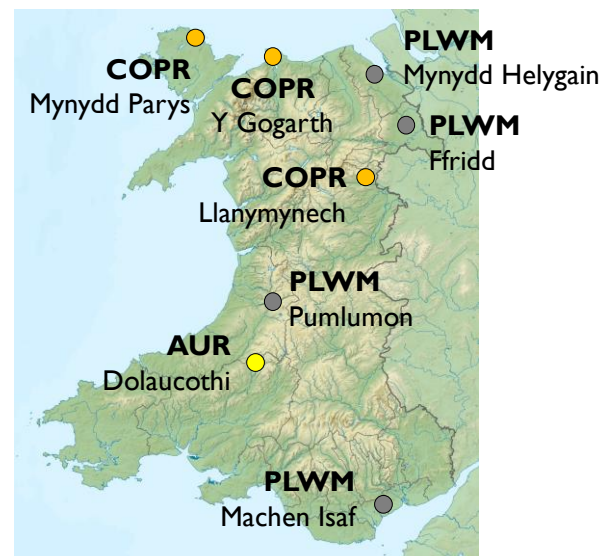
## Ymerawdwr

19) $3\frac{1}{2}$ awr ar ôl 08:20 =	20) $6 \times 0.1 =$	21) $9.6 \div 2 =$
22) Mae _____ awr mewn wythnos	23) _____ + 628 = 1,000	24) 421.5 i ddau ffigur ystyrlon =
25) Mae Buddug yn rhoi'r cyw iâr yn y popty am 1:34 p.m. Mae'r cyw iâr yn cymryd $3\frac{1}{3}$ awr i goginio. Pa amser fydd y cyw iâr yn barod?		

## Hanes

Ar ôl gwrthryfel Buddug, dychwelodd y Rhufeiniaid i Gymru, gan orffen ei goncro yn 78 O.C. Dechreuwyd cloddio am fwynau fel **aur**, **copr** a **sinc**.

Daeth y mwyafrif o drigolion Cymru i dderbyn cael eu rheoli gan Rufain, gyda'r Ordoficiaid yn y canolbarth a'r Gogledd y mwyaf gwrthwynebus (*rebellious*).





# Rhufeiniaid Rhifedd: Sesiwn 16



Sgôr: \_\_\_\_\_ Pwy ydych chi? \_\_\_\_\_

## Canolbwyntio ar: Degolion

### Gladiator

1) $1.2 + 1.5 =$	2) $3 - 0.2 =$	3) $£1.48 + £0.50 =$
4) $2 \times 0.6 =$	5) $2.4 \div 2 =$	6) Cylchwch y rhif mwyaf: 0.208 0.082 0.28
7) $2.5 \times 10 =$	8) $164 \div 10 =$	9) $5.6 \div 100 =$

### Dinesydd

10) 0.26 fel canran =	11) 0.8 fel canran =	12) 0.02 fel canran =
13) 0.5 fel ffracsiwn =	14) 0.17 fel ffracsiwn =	15) 0.2 fel ffracsiwn =
16) $1.24 + 0.41 =$	17) $2.43 - 1.27 =$	18) $0.7 \times 11 =$

### Ymerawdwr

19) Cilydd 0.5 yw	20) Cilydd 0.2 yw	21) Cilydd 0.1 yw
22) Hanner o 0.45 =	23) $0.2 + 0.3 \times 2 =$	24) $0.4 \times 0.1 =$
25) Mae Romulus yn prynu 5 torth o fara, sy'n costio £1.25 yr un. Faint mae Romulus yn ei dalu am yr holl fara?		

### Hanes

Roedd y Rhufeiniaid yn enwog am adeiladu ffyrdd, ag un o'r rhai pwysicaf yng Nghymru oedd **Sarn Helen**, a oedd yn cysylltu Gogledd Cymru efo De Cymru.

Yn ôl y chwedl, dywedwyd bod **Elen ferch Eudaf** wedi gorchymyn i'r ffordd gael ei adeiladu yn y bedwaredd ganrif, ond mae'n debyg bod y gwir ffordd wedi bodoli'n llawer cynt na hyn.





# Rhufeiniaid Rhifedd: Sesiwn 17



Sgôr: \_\_\_\_\_ Pwy ydych chi? \_\_\_\_\_

## Gladiator

1) $3 \times 8 =$	2) $38 + 23 =$	3) $32 \div 4 =$
4) $6 \text{ m} = \text{_____ cm}$	5) Tynnwch 65c o £1.36 =	6) $\frac{1}{4}$ awr cyn 11:09 =
7) Traean o 24 =	8) $2.4 + 3.7 =$	9) 50% o 222 =

## Dinesydd

10) Sawl hanner sydd mewn 5?	11) Cymedr 9, 2, 4 =	12) Amrediad 8, 3, 4, 8 =
13) 14.03 i un lle degol =	14) $12 - 8 \div 4 =$	15) $3^3 =$
16) $\sqrt{100} =$	17) 14% fel degolyn =	18) 4 awr = _____ munud

## Ymerawdwr

19) $7 \times 0.5 =$	20) Cilydd $\frac{4}{5}$ yw	21) Arwynebedd petryal 7 cm wrth 2 cm =
22) $60 \times \text{_____} = 30$	23) $105 - 78 =$	24) 30% o £15 =
25) Mae darn o gig eidion 250 g yn costio £3.50. Faint yw'r gost fesul 100 g?		

## Hanes

Rheolwyd Cymru adeg y Rhufeiniaid gan **gaerau** (*forts*) mewn llefydd fel **Deva Victrix** (Caer neu *Chester*), **Isca Augusta** (Caerllion) a **Segontium** (Caernarfon).

Yn y llun ar y dde, dangosir adfail hen faddondy (*bath house*) yn Segontium.





# Rhufeiniaid Rhifedd: Sesiwn 18



Sgôr: \_\_\_\_\_ Pwy ydych chi? \_\_\_\_\_

## Gladiator

1) $4 \times 14 =$	2) $29 + 54 =$	3) $48 \div 8 =$
4) $8 \text{ cm} = \text{_____ mm}$	5) $9^2 =$	6) Ochrau mewn heptagon =
7) $\frac{1}{5} = \text{_____ \%}$	8) $7 - 0.6 =$	9) $50\% \text{ o } 11 =$

## Dinesydd

10) Perimedr petryal 3 cm wrth 4 cm =	11) Modd 1, 3, 2, 1, 3 =	12) Amrediad 1, 3, 2, 1, 3 =
13) 0.865 i ddau le degol =	14) $8 + 4 \times 3 =$	15) $75\% \text{ o } 40 =$
16) $\sqrt{4} =$	17) 10% fel ffracsiwn =	18) 4 diwrnod = _____ awr

## Ymerawdwr

19) $8 \times 0.1 =$	20) $(9 - 5) \times 4 =$	21) Cyfaint ciwb efo ochrau 5 cm =
22) $3 \div 0.5 =$	23) $9.1 - 3.7 =$	24) 5,702 i un ffigur ystyrlon =
25) Sawl diod 89c mae Elen yn gallu prynu efo papur £10?		

## Hanes

Adeiladwyd caer Rufeinig **Canovium** tua 77–78 O.C. Roedd hwn yn gaer sgwâr, allan o bren, wedi'i leoli'n agos at safle pwysig croesi'r **Afon Conwy** (Tal-y-Cafn heddiw).

Cafodd y safle ei gluddio (*excavated*) yn ystod yr 1920au; darganfuwyd gêm gownteri a theilsen yn cynnwys gwasgnod (*imprint*) o droed plentyn. Mae'n bosib gweld yr arteffactau hyn yn [Amgueddfa Llandudno](#).





# Rhufeiniaid Rhifedd: Sesiwn 19



Sgôr: \_\_\_\_\_ Pwy ydych chi? \_\_\_\_\_

## Gladiator

1) $7 \times 7 =$	2) $44 + 51 =$	3) $20 \div 4 =$
4) $2.5 \text{ kg} = \text{_____ g}$	5) $2^2 =$	6) $19 - 21 =$
7) Enw siâp efo tair ochr =	8) $1.2 + 3.5 =$	9) $10\% \text{ o } £6 =$

## Dinesydd

10) Arwynebedd petryal 9 cm wrth 7 cm =	11) Cymedr 1, 1, 1 =	12) Amrediad 1, 1, 1 =
13) 87.98 i un lle degol =	14) $8 - 10 \div 2 =$	15) $20\% \text{ o } 60 =$
16) Hanner 450 =	17) 30% fel degolyn =	18) $1\frac{1}{2}$ munud = _____ eiliad

## Ymerawdwr

19) $\frac{1}{20} = \text{_____ } \%$	20) Perimedwr petryal 3 cm wrth 1.5 cm =	21) Cyfaint ciwboid 2 cm wrth 2 cm wrth 5 cm =
22) $1.6 \div 0.8 =$	23) $327 - 29 =$	24) 9.709 i'r uned agosaf =
25) $59 \times 5 =$		

## Hanes

Parhaodd yr Ymerodraeth Rufeinig i ehangu ar ôl concro Cymru yn 78 O.C., gan gyrraedd ei anterth (*peak*) yn 117 O.C. Ymddengys i Gymru gael llonydd wrth i'r milwyr Rhufeinig ennill tiroedd newydd.

Lladin oedd iaith y Rhufeinwyr, a daeth nifer o eiriau o'r Lladin yn rhan o'r iaith Gymraeg gynnar. Er enghraifft: **pont** (yn Lladin 'pons'); **bresych** (yn Lladin 'brassica'); ag **eglwys** (yn Lladin 'ecclesia').





# Rhufeiniaid Rhifedd: Sesiwn 20



Sgôr: \_\_\_\_\_ Pwy ydych chi? \_\_\_\_\_

## Canolbwyntio ar: Cyfrifiadau

### Gladiator

1) $6 \times 2 =$	2) $6 \times 6 =$	3) $6 \times 9 =$
4) $32 \div 4 =$	5) $49 \div 7 =$	6) $34 \div 2 =$
7) $17 + 18 =$	8) $98 + 64 =$	9) $238 + 104 =$

### Dinesydd

10) $2 + 3 \times 5 =$	11) $8 + 12 \div 2 =$	12) $4 \times 6 \div 2 =$
13) $12 - 3 + 4 =$	14) $4 + (2 \times 7) =$	15) $10 \times 2 + 3 =$
16) $1 \times 2 + 3 \times 4 =$	17) $16 \div 2 - 6 \div 2 =$	18) $3 + 4 \times 5 - 2 =$

### Ymerawdwr

19) $6 + 0.5 =$	20) $6 \times 0.5 =$	21) $6 \div 0.5 =$
22) $£4.57 - £1.60 =$	23) $£3.35 \times 3 =$	24) $£1.80 \times 10 =$
25) Beth yw'r gwahaniaeth rhwng pum dwsin a thri deunaw?		

### Hanes

Erbyn y bedwaredd ganrif, roedd dylanwad y Rhufeiniaid ar Gymru wedi lleihau. Roedd llai o filwyr i'w weld ar y strydoedd, gan iddynt gael eu galw i ffwrdd i ymladd mewn rhannau eraill o'r Ymerodraeth.

Mae enw un dyn wedi aros yn y cof o ran rhyddhau'r Cymry o rym y Rhufeiniaid: **Macsen Wledig**.














# Rhufeiniaid Rhifedd



**Ysgrifennwch eich sgoriau  
ar gyfer sesiynau 11–20:**



**Beth yw cyfanswm y sgoriau uchod? \_\_\_\_\_**

**Beth yw cymedr y sgoriau uchod? \_\_\_\_\_**

**Beth yw amrediad y sgoriau uchod? \_\_\_\_\_**

**Beth ydych yn gwneud yn dda / gweld yn hawdd?**

---

---

**Beth ydych angen gwella / gweld yn anodd?**

---

---

---



# Rhufeiniaid Rhifedd

## Adolygu'r Hanes



1) Pryd fu farw gwr Buddug?

---

2) Pam teithiodd y Rhufeinwyr i Ynys Môn?

---

3) Faint o filwyr oedd ym myddin Buddug?

---

4) Pa fwyn y cloddiwyd amdano yn Y Gogarth?

---

5) Beth oedd enw'r ffordd a oedd yn cysylltu Gogledd a De Cymru?

---

6) Beth oedd enw caer y Rhufeiniaid yng Nghaernarfon?

---

7) Ym mha flwyddyn cyrhaeddodd yr ymerodraeth ei anterth?

---

8) Rhowch enghreifftiau o eiriau Cymraeg sy'n tarddu o'r Lladin.

---



# Rhufeiniaid Rhifedd: Sesiwn 21



Sgôr: \_\_\_\_\_ Pwy ydych chi? \_\_\_\_\_

## Gladiator

1) $11 \times 8 =$	2) Ugain munud ar ôl 11:45 p.m. =	3) $32 + 48 =$
4) 2 litr = _____ ml	5) $25 \div 2 =$	6) $1.9 + 0.4 =$
7) $£2.37 + £0.08 =$	8) Tachwedd = _____ diwrnod	9) 10% o \$16 =

## Dinesydd

10) Arwynebedd petryal 2.5 cm wrth 2 cm =	11) Canolrif 15, 12, 19 =	12) 11% fel degolyn =
13) $-3.7$ i'r uned agosaf =	14) $8 - 6 + 1 =$	15) $3 \times \text{_____} = 45$
16) $4^2 =$	17) Hanner 4,260 =	18) 00:30 yn y cloc 12 awr =

## Ymerawdwr

19) $3 + 0.4 + 0.02 =$	20) Mae gan giwb _____ ochr	21) $4 \div 0.25 =$
22) $\frac{3}{4} + \frac{1}{2} =$	23) Cylchwch y rhif mwyaf: 48%      0.501 $\frac{1}{2}$	24) 0.00472 i un ffigur ystyrlon =
25) Sawl diwrnod sydd mewn 4 blwyddyn olynol?		

## Hanes

Ganwyd Maccsen Wledig (*Magnus Maximus*) yn y flwyddyn 325 O.C. Mae'n debyg iddo ddod yn gadfridog (*general*) enwog, yn gwasanaethu'n Affrica ac ar hyd yr afon Danube. Fe ddaeth i Brydain Fawr yn y flwyddyn 380 O.C., gan helpu i drechu cyrch gan y **Pictiaid** a'r **Albanwyr** yn 381 O.C.

Yn 383 O.C., gadawodd Maccsen diroedd Prydain efo cyfran helaeth o'i fyddin er mwyn dod yn **Ymerawdwr y Gorllewin**. Cyhoeddwyd darnau arian yn dangos ei wyneb, fel yr un sy'n cael ei ddangos ar y dde.





# Rhufeiniaid Rhifedd: Sesiwn 22



Sgôr: \_\_\_\_\_ Pwy ydych chi? \_\_\_\_\_

## Gladiator

1) _____ + 23 = 34	2) $6 \times 12 =$	3) $109 - 24 =$
4) $1\frac{1}{4}$ kg = _____ g	5) $50\% \circ 3 =$	6) Mai = _____ diwrnod
7) $\frac{3}{4} =$ _____ %	8) $\pounds 1.40 \times 4 =$	9) Hanner nos yn y cloc 24 awr =

## Dinesydd

10) $7 - -4 =$	11) Modd 1, 2, 3, 4 =	12) Cymedr 10, 30, 50 =
13) 6.38 i'r uned agosaf =	14) $\frac{7}{10} \circ 90 =$	15) _____ + 1.7 = 10
16) $218 +$ _____ = 1,000	17) 0.05 fel canran =	18) Arwynebedd triongl efo sail 1 cm, uchder 6 cm =


## Ymerawdwr

19) $9 \times 0.6 =$	20) $5 \div 0.1 =$	21) $2^5 =$
22) $4 \times 2 + 2 \times 3 =$	23) $80\% \circ \pounds 30 =$	24) 0.002468 i ddau ffigur ystyrlon =
25) Mae Maccsen yn wynebu i'r Gogledd. Os yw'n troi $90^\circ$ yn glocwedd, pa ffordd y bydd Maccsen yn ei wynebu wedyn?		

## Hanes

Mae'r chwedl **Breuddwyd Maccsen Wledig**, o'r Mabinogion, yn adrodd yr hanes o sut wnaeth Maccsen gwrdd â'i wraig, **Elen ferch Eudaf...**

Un diwrnod, wrth hela, daeth awydd cwsg tros Maccsen. Breuddwydiodd ei fod wedi teithio tros fynydd uchaf y byd, cyn cyrraedd **caer ysblennydd** wedi'i wneud o aur a cherrig llachar gwerthfawr...





# Rhufeiniaid Rhifedd: Sesiwn 23



Sgôr: \_\_\_\_\_ Pwy ydych chi? \_\_\_\_\_

## Gladiator

1) $56 + \underline{\quad} = 81$	2) $6 \times 3 =$	3) $120 \div 10 =$
4) $57 \text{ mm} = \underline{\quad} \text{ cm}$	5) $25\% \text{ o } 120 =$	6) Gorffennaf = $\underline{\quad}$ diwrnod
7) $\frac{1}{2} + \frac{1}{2} =$	8) $1 - 2 + 3 =$	9) $\text{£}5 - 13\text{c} =$

## Dinesydd

10) $9 + -2 =$	11) Cylchwch y rhifau cysefin: 1 2 3 4 5 6 7 8 9 10	12) Cyfanswm 14 a 19 =
13) 8.07 i'r uned agosaf =	14) $\frac{2}{5} \text{ o } 10 =$	15) $\underline{\quad} + 9.99 = 10$
16) $283 + \underline{\quad} = 1,000$	17) 0.04 fel canran =	18) Mae gan nonagon $\underline{\quad}$ ochr

## Ymerawdwr

19) $3 \times 0.05 =$	20) $0.3 \div 3 =$	21) Cilydd $\frac{5}{9}$ yw
22) $4 - 1 \div 2 =$	23) $15\% \text{ o } \text{£}50 =$	24) 834,280 i un ffigur ystyrlon =
25) Y gwahaniaeth amser rhwng Llundain a Rhufain yw 1 awr. Os yw'n 11:46 p.m. yn Llundain, pa amser yw hi yn Rhufain?		

## Hanes

Ar ôl cyrraedd y caer, gwelodd Maccsen weision yn gwisgo sidan du, yn chwarae gwyddbwyll. Roedd **dyn urddasol** yn eistedd ar orsedd aur, a'r **ferch decaf erioed** yn eistedd wrth ei ochr. Aeth Maccsen i gofleidio'r ferch, ond, cyn iddynt gyffwrdd, deffrodd Maccsen o'r freuddwyd...





# Rhufeiniaid Rhifedd: Sesiwn 24



Sgôr: \_\_\_\_\_ Pwy ydych chi? \_\_\_\_\_

## Canolbwyntio ar: Mesurau

### Gladiator

1) 1 km = _____ m	2) 1 m = _____ cm	3) 1 cm = _____ mm
4) 1 tunell fetrig = _____ kg	5) 1 kg = _____ g	4) 1 g = _____ mg
7) £1 = _____ c	8) 1 litr = _____ ml	9) 1 cl = _____ ml

### Dinesydd

10) 1 llathen = _____ troedfedd	11) 1 troedfedd = _____ modfedd	12) 1 modfedd $\approx$ _____ cm
13) 1 tunnell = _____ stôn	14) 1 stôn = _____ pwys	15) 1 pwys = _____ owns
16) 1 owns $\approx$ _____ g	17) 1 galwyn = _____ peint	18) 1 peint = _____ owns hylifol

### Ymerawdwr

19) 1 filltir = _____ llathen	20) 1 galwyn $\approx$ _____ litr	21) 1 kg $\approx$ _____ pwys
22) 1 filltir $\approx$ _____ km	23) 1 llathen $\approx$ _____ m	24) 1 litr $\approx$ _____ peint
25) 3.5 km = _____ mm		

### Hanes

Disgynnodd Maccen mewn cariad â'r ferch y gwelodd yn ei freuddwyd. Edrychodd ymlaen at gysgu fel gall freuddwydio amdani eto! Ni wŷr Maccen lle'r oedd y ferch yn byw, felly danfonodd 13 o negeyddion (*messengers*) i chwilio amdani.

Ar ôl tair blynedd, daethpwyd o hyd i **Eudaf** (y dyn urddasol) ag **Elen** (y ferch) yn Segontium, Cymru. Cyfarchwyd hi fel 'Ymerodres Rhufain', a gofynnwyd iddi deithio i Rufain i weld Maccen. Gwrthododd, gan fynnu bod Maccen yn teithio i'w gweld hi...





# Rhufeiniaid Rhifedd: Sesiwn 25



Sgôr: \_\_\_\_\_ Pwy ydych chi? \_\_\_\_\_

## Gladiator

1) $9 \times 4 =$	2) $4 - 9 =$	3) $9 \div 4 =$
4) 2 owns $\approx$ _____ g	5) $0 \times 0 =$	6) 235 i'r 10 agosaf =
7) Dwbl 160 =	8) Pum munud ar hugain cyn 12:15 pm =	9) 10% o £1,040 =

## Dinesydd

10) Nifer o ochrau gan ddecagon =	11) Cylchwch y ffracsiwn mwyaf: $\frac{4}{5}$ $\frac{7}{10}$ $\frac{15}{20}$	12) Lluoswm 3 a 4 =
13) 0.3 i'r uned agosaf =	14) $21 \div (9 - 8) =$	15) $12 + \underline{\hspace{2cm}} = 100$
16) $\sqrt{1} =$	17) 9% fel degolyn =	18) 20 munud = _____ eiliad

## Ymerawdwr

19) $6 \times 0.2 =$	20) Perimedwr petryal 1.3 cm wrth 2.1 cm =	21) Cost 4 beiro sy'n costio 24c yr un =
22) $0.8 \div 0.4 =$	23) Adiwch 28 i 4.2 =	24) $0.7 \times 0.1 =$
25) Pa ganran o 60 yw 15?		

## Hanes

Dychwelodd y negesyddion i Rufain er mwyn nôl Maccsen. Cytunodd i fynd i Gymru, lle briododd Maccsen ac Elen.

Yn ail hanner y chwedl, cawn hanes Maccsen yn codi tair caer i Elen yng Nghymru, ac adeiladu ffyrdd i'w cysylltu – **Sarn (H)elen**. Mae'r chwedl yn gorffen wrth i Maccsen ac Elen deithio i oresgyn Rhufain gyda chymorth **Cynan** ac **Adeon**, brodyr Elen.





# Rhufeiniaid Rhifedd: Sesiwn 26



Sgôr: \_\_\_\_\_ Pwy ydych chi? \_\_\_\_\_

## Gladiator

1) $2 \times 12 =$	2) $87 + 19 =$	3) $64 \div 8 =$
4) $\frac{1}{10}$ munud = _____ eiliad	5) $4 \times -5 =$	6) 54,209 i'r 1,000 agosaf =
7) 3:30 a.m. yn y cloc 24 awr =	8) Mae $90^\circ$ yn ongl _____	9) 50% o 6 =

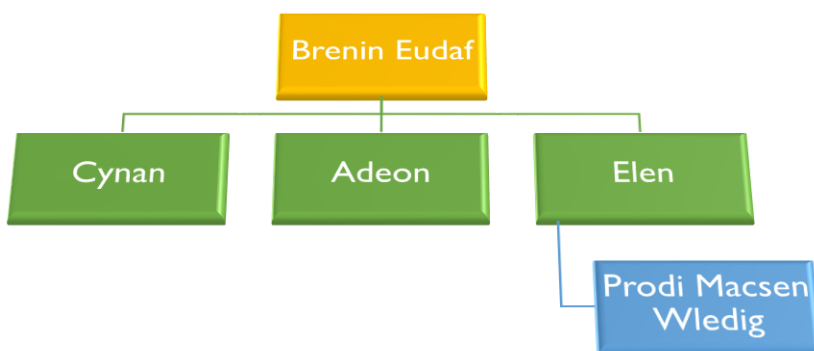
## Dinesydd

10) $0.5 + 0.7 =$	11) $96 \div 8 =$	12) Canolrif 6, 4, 10 =
13) 109.42 i un lle degol =	14) $2 + 3 \times 4 + 5 =$	15) 20% o £25 =
16) $4\frac{1}{2}$ km = _____ m	17) $\frac{11}{50}$ fel degolyn =	18) 5 wedi'i sgwario =

## Ymerawdwr

19) $3\frac{1}{2}$ awr cyn 12:18 p.m. =	20) $6 \times 0.1 =$	21) Cilydd 5 yw
22) $3 - 0.24 =$	23) $386 - 190 =$	24) 27,325 i un ffigur ystyrlon =
25) Pa ffracsiwn o 80 yw 16?		

## Hanes: Coeden Deulu Elen





# Rhufeiniaid Rhifedd: Sesiwn 27



Sgôr: \_\_\_\_\_ Pwy ydych chi? \_\_\_\_\_

## Gladiator

1) $23 + 29 =$	2) $54 - 17 =$	3) $8 \times \underline{\quad} = 72$
4) Cylchwch yr ateb cywir: Mae 45 yn odrif / eilrif.	5) $3 + 7.5 =$	6) 780 i'r 100 agosaf =
7) 18:54 yn y cloc 12 awr =	8) $12 - 0.8 =$	9) 10% o £5.30 =

## Dinesydd

10) Modd 7, 2, 1, 2 =	11) Canolrif 7, 2, 1, 2 =	12) Cymedr 7, 2, 1, 2 =
13) 5.825 i un lle degol =	14) $12 - 4 + 5 =$	15) 70% o £500 =
16) $\frac{1}{2}$ cm = _____ mm	17) $\frac{7}{100}$ fel canran =	18) 4 wedi'i giwbio =

## Ymerawdwr

19) $1.4 \times 0.1 =$	20) Mae gan detrahedron o fertigau	21) $4.6 - 1.24 =$
22) $\frac{9}{10}$ o £30 =	23) 0.0271 i un fffigur ystyrlon =	24) 29.3% fel degolyn =
25) Cylchwch y rhifau sgwâr: 1 2 3 4 5 6 7 8 9 10		

## Hanes

Er mai chwedl yw Breuddwyd Maccen Wledig, mae haneswyr yn cytuno bod Maccen wedi gadael Prydain Fawr yn 383 O.C. i ddod yn **Ymerawdwr y Gorllewin**. Ar ôl i Maccen adael, nid oes tystiolaeth o unrhyw bresenoldeb milwrol gan y Rhufeiniaid yng Nghymru. Ystyrir felly bod Maccen wedi rhyddhau'r Cymry o rym y Rhufeinwyr.





# Rhufeiniaid Rhifedd: Sesiwn 28



Sgôr: \_\_\_\_\_ Pwy ydych chi? \_\_\_\_\_

## Canolbwyntio ar: Siapiau

### Gladiator

1) Pentagon = _____ ochr	2) Hecsgon = _____ ochr	3) Octagon = _____ ochr
4) _____ = 7 ochr	5) _____ = 9 ochr	6) _____ = 10 ochr
7) Mae gan giwboid _____ fertig	8) Mae gan giwboid _____ ochr	9) Mae gan giwboid _____ wyneb

### Dinesydd

10) Perimeddr petryal 5 cm wrth 4 cm =	11) Arwynebedd petryal 5 cm wrth 4 cm =	12) Arwynebedd triongl efo sail 8 cm, uchder 4 cm =
13) Perimeddr petryal 2.5 cm wrth 6 cm =	14) Arwynebedd petryal 2.5 cm wrth 6 cm =	15) Arwynebedd triongl efo sail 10 cm, uchder $\frac{1}{2}$ cm =
16) Cyfaint ciwboid 3 cm wrth 2 cm wrth 2 cm =	17) Cyfaint ciwboid 4 cm wrth 5 cm wrth 6 cm =	18) Cyfaint ciwboid 1 cm wrth 10 cm wrth 2.5 cm =

### Ymerawdwr


19) Mae gan detrahedron _____ fertig	20) Mae gan detrahedron _____ ochr	21) Mae gan detrahedron _____ wyneb
22) Arwynebedd triongl =	23) Arwynebedd paralelogram =	24) Arwynebedd trapesiwm =
25) Mae Cynan efo ciwboid sy'n mesur 5 cm wrth 6 cm wrth 3 cm. Beth yw arwynebedd arwyneb y ciwboid?		

### Hanes

Mae hanes Maccsen Wledig yn cael ei gofio yn y gân “Yma o Hyd” a recordiwyd gan **Dafydd Iwan** yn 1981:

“Ond wnaeth Magnus Maximus o Gymru,  
yn y flwyddyn tri chant wyth tri,  
a'n gadael yn genedl gyfan,  
a heddiw: wele ni...”

“Ry'n ni yma o hyd!...”





# Rhufeiniaid Rhifedd: Sesiwn 29



Sgôr: \_\_\_\_\_ Pwy ydych chi? \_\_\_\_\_

## Gladiator

1) $9 \times 6 =$	2) $15 - 19 =$	3) $77 \div 11 =$
4) $25\% \text{ o } \$100 =$	5) Tynnwch $1.4 \text{ o } 5 =$	6) $4 \times \underline{\hspace{2cm}} = 100$
7) 7:30 a.m. yn y cloc 24 awr =	8) I pwys = _____ owns	9) $10\% \text{ o } 350 =$

## Dinesydd

10) $6.32 + 7.4 =$	11) Cymedr 2, 4, 15 =	12) Amrediad 2, 4, 15 =
13) 5.218 i ddau le degol =	14) $4 + 5 \times 2 - 1 =$	15) $1\% \text{ o } £30 =$
16) $7\frac{3}{4} \text{ m} = \underline{\hspace{2cm}} \text{ cm}$	17) 92% fel degolyn =	18) $6^3 =$

## Ymerawdwr

19) Cilydd 8 yw	20) $18 \times 11 =$	21) $120 \times \underline{\hspace{2cm}} = 1.2$
22) Mae _____ traean mewn $4\frac{1}{3}$	23) 123,456 i dri ffigur ystyrlon =	24) $1^4 =$
25) Mae 2 fodfedd tua 5 cm. Tua sawl cm yw 5 modfedd?		

## Hanes: Llinell Amser





# Rhufeiniaid Rhifedd: Sesiwn 30



Sgôr: \_\_\_\_\_ Pwy ydych chi? \_\_\_\_\_

## Gladiator

1) Ysgrifennwch holl ffactorau 20:	2) $12 \times 11 =$	3) $17 \div 2 =$
4) $£80 - £29.99 =$	5) Dwbl 240,000 =	6) $0.2 + \underline{\hspace{2cm}} = 1$
7) 29.87 i un lle degol =	8) Mae $275^\circ$ yn ongl _____	9) 25% o 44 =

## Dinesydd

10) $7.5 + 2.7 =$	11) Adiwch 28.4 i 4 =	12) Amrediad -5, 0, 5 =
13) $3 - 2 \times 0 + 4 =$	14) $12 \div 0.5 =$	15) $2 \div 0.2 =$
16) 6,400 g = _____ kg	17) $\frac{4}{5} =$ _____ %	18) Awst = _____ diwrnod

## Ymerawdwr

19) $120 \div 12 =$	20) $13 \times 9 =$	21) Gwir neu gau? Mae 1 yn rhif cysefin?
22) $4 \div 0.8 =$	23) Cilydd 15 yw	24) 0.000709 i un ffigur ystyrlon =
25) Beth yw chwarter hanner cilogram mewn gramau?		

## Hanes

Nid oes llawer o dystiolaeth fod y Rhufeinwyr wedi ceisio dal eu gafael ar Brydain ar ôl i Maccen adael yn 383 O.C. Dirywio oedd hanes gweddill yr ymerodraeth hefyd, gyda rhan **orllewinol** yr ymerodraeth yn gorffen yn 476 O.C.

Daliodd y Rhufeiniaid eu gafael ar ran **ddwyreiniol** yr ymerodraeth am 1,000 o flynyddoedd arall, cyn i'r



**Otomaniaid** gymryd drosodd yn y flwyddyn 1453.



# Rhufeiniaid Rhifedd



Ysgrifennwch eich sgoriau  
ar gyfer sesiynau 21–30:

21

22

23

24

25

26

27

28

29

30

Beth yw cyfanswm y sgoriau uchod? \_\_\_\_\_

Beth yw cymedr y sgoriau uchod? \_\_\_\_\_

Beth yw amrediad y sgoriau uchod? \_\_\_\_\_

Beth ydych yn gwneud yn dda / gweld yn hawdd?

---


---

Beth ydych angen gwella / gweld yn anodd?

---

---

---



# Rhufeiniaid Rhifedd

## Adolygu'r Hanes



1) Ym mha flwyddyn ganwyd Maccsen Wledig?

---

2) Ym mreuddwyd Maccsen, o beth gwnaethpwyd y caer ysblennydd?

---

3) Beth oedd y gweision yn gwneud yn y freuddwyd?

---

4) Sawl negesydd danfonodd Maccsen i chwilio am Elen?

---

5) Beth oedd enwau brodyr Elen?

---

6) Pryd gadawodd Maccsen Brydain Fawr?

---

7) Beth yw enw'r gân sy'n cofio hanes Maccsen Wledig?

---

8) Pryd orffennodd ran ddwyreiniol Yr Ymerodraeth Rufeinig?

---



# Rhufeiniaid Rhifedd

## Ffynonellau Lluniau



Tudalen	Ffynhonnell
1, 3, 5, 6, 8, 9, 10, 11, 12, 25, 30, 31, 32, 33, 35, 38	<a href="https://www.shutterstock.com">Shutterstock.com</a>
7	Portrait of Lucius Verus, co-Emperor with Marcus Aurelius (161-169 AD). Marble, between 180 and 183 AD, found at the villa of his wife Lucilla at Acqua Traversa, near Rome. <a href="#">Wikimedia Commons</a>
13	Andrew Birrell (after Henry Fuseli), Caractacus at the Tribunal of Claudius at Rome (1792). <a href="#">Wikipedia</a>
14	Boadicea Haranguing the Britons. <a href="#">Wikipedia</a>
17	Cerflun o Buddug a'i merched. Neuadd y Ddinas, Caerdydd. <a href="#">Flickr</a>
18	Philip Bird LRPS CPAGB / <a href="https://www.shutterstock.com">Shutterstock.com</a>
19	General route of Watling Street overlaid on an outdated map of the Roman road network in Britain. <a href="#">Wikipedia</a>
21	Map o Gymru. <a href="#">Wikipedia</a>
22	A very steep hill on the not so straight Roman road to Neath. <a href="http://www.geograph.org.uk/photo/405253">www.geograph.org.uk/photo/405253</a>
23	Segontium Roman fort (Wales). Fundaments of thermae (bath house). <a href="#">Wikipedia</a>
24	Caerhun river crossing by Noel Walley. <a href="#">Wikipedia</a>
26	A crude illustration of Maccsen Wledig from a 15th century Welsh language version of Geoffrey of Monmouth's highly influential Historia Regum Britanniae ('History of the Kings of Britain'). <a href="#">Wikipedia</a>
29	Coin of Magnus Maximus Augustus: 383–388. <a href="#">Wikipedia</a>
36	Dafydd Iwan gan Darren Wyn Rees – Aberdare Blog. <a href="#">Wikimedia Commons</a>
42	GTS Productions / <a href="https://www.shutterstock.com">Shutterstock.com</a>

